



NACIONĀLAIS
ATTĪSTĪBAS
PLĀNS 2020



EIROPAS SAVIENĪBA
Eiropas Sociālais
fonds

atb|sts
izci|ībai

IEGULDĪJUMS TAVĀ NĀKOTNĒ

8.3.2.1./16/I/002

NACIONĀLA UN STARPTAUTISKA MĒROGA PASĀKUMU ĪSTENOŠANA IZGLĪTOJAMO TALANTU ATTĪSTĪBAI
Strūgu iela 4, Rīga, LV-1003, tālr. 67350966, e-pasts: info@832.visc.gov.lv

Vēstures olimpiādes 2. (novadu) posms

Vidusskolas uzdevumi

2023. gada 8. decembrī

1. **uzdevums.** Uzmanīgi iepazīsties ar vēstures jēdzienu skaidrojumiem un attiecīgajā lodziņā ieviec atbilstošo jēdzienu! **Esi uzmanīgs trīs jēdzieni ir lieki un tiem šajā uzdevumā nav atbilstošā skaidrojuma.** (12 punkti)

Jēdzieni: Nodevas, ūnija, matrikuls, merkantilisms, šļahta, magnāts, muižu redukcija, manufaktūra, vojevodiste, guberņa, rente, koloniālisms, reformācija, protestantisms, uniāti.

Jēdziena skaidrojums	Jēdziens
Valstu savienība vai apvienība viena valdnieka vadībā. Izveidota stiprākās valsts spiediena rezultātā vai uz līguma pamata. Vēsturē ir zināmas tādas apvienības kā Ļubļinas, Kalmāras, Krēves.	
Lielas zemes īpašnieks Polijā – Lietuvā, kuri ieņēma augstus valsts un baznīcas amatus. Ungārijā un Polijā tie varēja pat atšķirties no valdnieka pēc konfesionālās piederības, pulcināt karavīrus un ietekmēt politiskos lēmumus. Šis jēdziens tiek izmantots arī mūsdienās, runājot par preses (avīzes), naftas vai multimiljonāriem, kādas rūpnieciskās nozares monopolistiem.	
Vidējā vai sīkā muižniecības kārtā, kam Polijā – Lietuvā bija plašas privilēģijas. Tā dienēja armijā, kalpoja magnātiem un karaļa galmam. Latgales vēsturnieks Gustavs Manteifelis savā darbā "Polijas Inflanija" Latgales muižniekus raksturoja šādi: "šejienu (..) runā tīrā poļu valodā, kas nav tik cieta kā Žemaitijā vai tik stiepta kā Lietuvā vai tik samaisīta ar krievu valodu kā daudzviet Baltkrievijā. Tos raksturo izcila viesmīlība, izpalīdzība, patiesums, bez veltīgas lielīšanās un citiem defektiem un pseidoaristokrātiskiem aizspriedumiem".	
Reliģiska un politiska kustība Eiropā 16. gadsimtā, kura bija vērsta uz Romas katoļu baznīcas pārveidošanu daudzās Eiropas zemēs, tostarp arī Livonijā. Tā norisinājās lielākoties pilsētās, vācu iedzīvotāju vidū.	
Bruņniecībai piederīgo dižciltīgo dzimtu reģistrs Kurzemē, ierakstīja tikai tās dzimtas, par kuru dižciltību nevienam nebija šaubu, vai kuras varēja pierādīt, ka tituls nav nopirkts, bet iegūts godam – dzimtas dižciltība neapstrīdama vairākās paaudzēs. Tikai reģistrā ierakstītajiem pienācās īpašuma tiesības uz bruņniecības muižām, tiesības ieņemt amatus Kurzemes un Zemgales hercogistes augstākajā administrācijā.	

Administratīvi teritoriāla iedalījuma vienība Krievijas impērija, ko pārvaldīja gubernators, kroņa palāta un gubernas valde. Krievijas impērijai pievienotā Livonija teritorija tika iedalīta tādās administratīvi teritoriālajās vienībās kā Rēveles, Līflandes, Kurlandes un Estlandes.	
Regulārs ienākums, ko saņem no citam apsaimniekošanā uzticēta kapitāla, zemes, raktuvēm v.c. īpašuma. Livonijā XIII-XVII gs. dominēja divi veidi: kunga tiesa (noteikts labības pūru skaits) un desmitā tiesa (XVI gs. kunga tiesa vairākkārt pārsniedza to apjomu, kas par identisku zemes platību bija jāmaksā XIII gs., bet desmitā tiesa jau bija aptuveni 25% no ražas).	
Saimniekošanas politika, kurai raksturīga vietējo dabas bagātību izmantošana, attīstot vietējo ražošanu, izvedot preces uz citām zemēm un ierobežojot preču ieviešanu.	
Politika, kas vērsta uz teritoriju iegūšanu vai paturēšanu ārpus savas valsts robežām, attieksme pret citu zemi un pakļautajām tautām, paužot misijas vai rasu pārākuma apziņu un nevēlēšanos piemēroties vietējiem iedzīvotājiem.	
Polijas administratīvais iedalījums, kas pirmo reizi parādījās 14. gadsimtā. Tās tiek sauktas arī par vaivadijām. Vēsturiski tās bija teritorijas, kuras vadīja valsts amatpersona. Viņš bija atbildīgs par teritorijas administrēšanu un aizsardzību.	
Grieķu katoļu baznīcas locekļi, kuri 1596. gadā Brestas koncilā pasludināja savu vienotību ar Romas apustulisko sēdekli un atzina pāvestu par Baznīcas galvu. Šis notikums tiek apzīmēts kā Brestas baznīcas savienību, kuras rezultātā Polijas-Lietuvas valstī Bizantijas-slāvu tradīcijas kristiešus apvienoja ar Romu. Tie ir bijuši neatņemama sastāvdaļa Latgales un dienvidaustrumu Zemgales (Augšzeme, Sēlija) iedzīvotāju kopienās gandrīz 200 gadus, bet pēc 1839. gada tā vairs oficiāli nepastāv Latvijas teritorijā.	
Amatnieciska ražotne, kas izgatavo precis ar roku darbu vai ar mašīnu palīdzību un ievēro darba dalīšanas principu preču ražošanas uzņēmumā.	

2. Uzdevums. Rūpīgi iepazīsties ar tekstu! Ciparu vietās ievieto atbilstošos jēdzienus un faktus. **Uzmanību! 3 no jēdzieniem ir aplami un lieki!** (21 punkti)

Jēdzieni: Krievijas, Norvēģija, Dānijai, manufaktūru, Tobago, 1561., Gothards Ketlers, Zviedrijas, Krievijas, Vācija, merkantilisma, reliģisko, Ventspilī, Polijas-Lietuvas, Krievijas, Jēkabs Katlers, reformācija, Latgale, 1772., muižniecība, katoļu, Ernsts Gliks, Inflaniju, Livonijas.

Kurzemes – Zemgales hercogiste tiek izveidota **1** _____ kara laikā 1561. gadā. Hercogiste ir politiski atkarīga no **2** _____ valsts. Teritorija nebija vienota, jo Grobiņas apgabals piederēja Prūsijai, bet Piltenes apgabals – **3** _____ (līdz 17. gadsimtam). Hercogu vara bija nosacīti vāja, jo ar privilēģijām dāsni apveltītā **4** _____

nelabprāt pakļāvās hercogam, izmantojot hercoga un Polijas – Lietuvas karaļa nesaskaņas. Hercogs bija bieži spiests piekāpties muižnieku prasībām, kas noveda pie dzimtbūšanas nostiprināšanās.

5_____ bija pēdējais Livonijas ordeņa mestrs, pirmais Kurzemes – Zemgales hercogs. **6**_____ veicināja hercogistes uzplaukumu. Attīstīja veiksmīgu ekonomisko politiku. Fridrihs Vilhelms Ketlers varas mantošanas brīdī bija nepilngadīgs. Tika nodibināta aizbildņu padome, lai gan reālo varu saglabāja viņa tēvocis Ferdinands. Hercogiste iesaistījās Lielajā ziemeļu karā. Kara rezultātā hercogiste pakļauta **7**_____ politiskajām iegribām.

Kurzemes – Zemgales hercogiste hercoga Jēkaba Ketlera laikā. Paaugstina lauksaimniecības ražošanas līmeni kroņa muižās. Vērā ņemami saimnieciski panākumi tika gūti arī **8**_____ attīstībā un to izstrādājumu pārdošanā. Tiek ieviesta **9**_____ politika. Izveido kuģu būvētavas **10**_____ un Kuldīgā. Izveido tirdzniecības floti – ostas Ventspilī, Liepājā, Sakā. Nopērk kolonijas Gambijā (Andrejsala) Āfrikā un **11**_____ salu pie Dienvidamerikas krastiem.

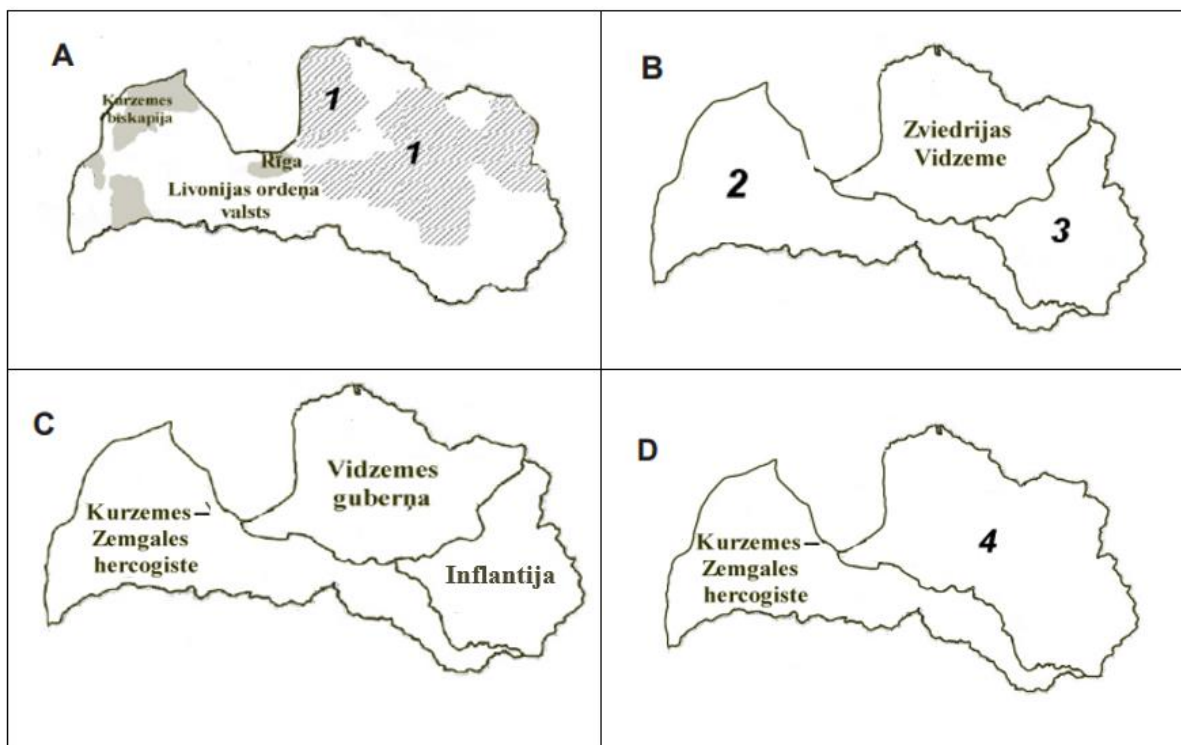
Pārdaugavas hercogisti izveidoja **12**_____ gadā. Tajā ietilpa daļa Igaunijas teritorijas un zemes Daugavas labajā krastā – Vidzeme un **13**_____. Latgales teritorijā aktīvi darbojās dažādi **14**_____ mūku ordeņi – jezuīti, cistercieši. Pēc Lielā ziemeļu kara Vidzeme un Igaunijas teritorija nonāca **15**_____ pakļautībā. Latgales teritorija palika poļiem. Polijai – Lietuvai piederošo teritoriju sauca par Livonijas vaivadiju jeb **16**_____. 18. gadsimtā, Livonijas vaivadijā, grāfi Plāteri veicināja saimniecības un kultūras uzplaukumu Krāslavā. Viņu plānos bija Krāslavu padarīt par Latgales katoļu **17**_____ centru, bet tam patraucēja Polijas – Lietuvas dalīšana **18**_____ gadā. Latgale līdz 1772. gadam ir Polijas – Lietuvas province, kad to pievieno **19**_____ impērijai.

Zviedru vara Vidzemē. Pēc Poļu – Zviedru kara Vidzeme tiek iekļauta **20**_____ sastāvā. Tajā nostiprina luterāņu baznīcu. **21**_____ pārtulko Bībeli latviešu valodā. Baznīcu draudzes organizēja skolas, kur zemnieku bērni ieguva izglītību.

3.uzdevums. Dotos vēstures notikumus saliec hronoloģiskā secībā no vecākā uz jaunāko! Pieņemot, ka vecākā notikuma atbilstošais burts ir jāieraksta vidējā ailītē pretī ciparam 1 un jaunākais notiks atbilstoši ciparam 12. (12 punkti)

1.		A Pirmā Polijas – Lietuvas dalīšana. Latgales pievienošana Krievijai.
2.		B Krievu karaspēks ieņem Rīgu un Vidzemi.
3.		C Livonijas karā iesaistās Dānijas hercogs Magnuss un Zviedrija. Ketlers tiek apstiprināts par hercogu un Pārdaugavas administratoru.
4.		D Zviedri ieņem Jelgavu un sagūsta hercogu Jēkabu. Karapulki posta Latvijas novadus.
5.		E Reformācijas sākums Livonijā.
6.		F Trešā Polijas – Lietuvas dalīšana. Kurzemes – Zemgales hercogiste tiek pievienota Krievijai.
7.		G Nīstades miera līgums paredz Vidzemes un Rīgas pievienošanu Krievijai. Beidzas Ziemeļu karš.
8.		H Ticības brīvības pasludināšana Livonijā.
9.		I Livonijas sabrukums. Kurzemes un Zemgales hercogistes izveidošanās.
10.		J Latvijas teritorija tiek sadalīta starp Poliju – Lietuvu un Zviedriju.
11.		K Rīga nonāk Polijas – Lietuvas pakļautībā. Rīdzinieki zvēr uzticību Stefanam Batorijam.
12.		L Ļubļinas ūnija. Žečpospolitas izveidošanās.

4. uzdevums. Aplūko kartoshēmas un aizpildi prasīto! (11 punkti)



4.1. uzdevums Sakārto kartes hronoloģiskā secībā. (Raksti burtus!) (1 punkts)

4.2. uzdevums Kādu vēsturisku notikumu sekas izveidoja šādu Latvijas teritorijas politisko dalījumu? (4 punkti)

Polijas – Zviedrijas karš, Krusta karš, Livonijas karš, Pirmais pasaules karš, Polijas – Lietuvas dalīšana, Ziemeļu karš.

Karte A _____
 Karte B _____
 Karte C _____
 Karte D _____

4.3. uzdevums Kartoshēmā ar skaitli apzīmētajām teritorijām izvēlies vienu no piedāvātajiem nosaukumiem! (4 punkti)

Pārdaugavas hercogiste, Rīgas arhibīskapa valsts, Livonijas ordeņa valsts, Inflantija, Baltijas hercogiste, Kurzemes un Zemgales hercogiste

1 _____
 2 _____
 3 _____
 4 _____

4.4.uzdevums Apvelc burtu, kurā no kartoshēmām atspoguļo Altmarkas pamiera līguma nosacījumus? (1 punkts)

- A
- B
- C
- D

4.5. Apvelc burtu, kura no kartoshēmām atspoguļo Nīstades miera līguma nosacījumus? (1 punkts)


- A
- B
- C
- D

5. uzdevums. Rūpīgi aplūko attēlus un nosaki, kuru kauju gaita parādīta attēlos? (4 punkti)


1



2



3



4



Izvēles varianti: Narvas kauja, Jēkabpils kauja, Svētes kaujs, Salaspils kauja, Mūrmuižas kauja, Poltavas kauja, Spilves kauja, Klisovas kauja

1. _____
2. _____
3. _____
4. _____


6. uzdevums. Tabulā norādīts armiju skaitliskais sastāvs un zaudējumi kaujās Latvijas teritorijā 17.-18.gs. Nosaki kaujas! (4 punkti)

Sastāvs	Zaudējumi
1. Zviedrijas armija: aptuveni 7000 cilvēku, 28 lielgabali Saksijas armija: aptuveni 9000 sakšu, aptuveni 4000 krievu, 36 lielgabali	Zviedrijas armija: aptuveni 100 kritušo un 400 ievainoto Saksijas armija: aptuveni 1300 kritušo un ievainoto, 700 gūstekņu, 36 lielgabali
2. Zviedrijas armija: 7000-9000 cilvēku, 12-17 lielgabali Krievijas armija: 9500-14000 cilvēku, 16 lielgabali	Zviedrijas armija: 900 kritušo, 1000 ievainoto Krievijas armija: 1300-2000 kritušo, 1000-3000 ievainoto, 400 gūstekņu, 13 lielgabali
3. Zviedru un lietuviešu spēki: 3000 zviedru, 2000-3000 lietuviešu, 18 lielgabali Krievu un poļu spēki: 3500-5000 krievu, 7600-10000 poļu, 23 lielgabali	Zviedru un lietuviešu spēki: 238 kritušo, 181 ievainoto Krievu un poļu spēki: aptuveni 2000-2500 kritušo un ievainoto, 217 gūstekņu, 23 lielgabali
4. Zviedrijas armija: 11000 cilvēku, 11 lielgabali Rečpospoļitas armija: 3600 cilvēku, 5 lielgabali	Zviedrijas armija: 5000 kritušo un ievainoto, 500 gūstekņu Rečpospoļitas armija: 100 kritušo, 200 ievainoto

Izvēles varianti: Spilves kauja 1701.g., Jumpravmuižas kauja 1700.g., Salaspils kauja 1605.g., Mūrmuižas kauja 1705.g., Jēkabpils kauja 1704.g., Daugavgrīvas kauja 1604.g.

1. _____
2. _____
3. _____
4. _____

7. uzdevums. Aplūko attēlus un atpazīsti personas! Apvelc pareizo atbildi! (10 punkti)

1.		<p>A. Kārlis XI B. Augusts II Stiprais C. Kārlis XII D. Gustavs Stenboks</p>
----	---	---

2.



- A. Kārlis XI
- B. Gustavs II Ādolfs
- C. Kazimirs Ketlers
- D. Stefans Batorijs

3.



- A. Augusts II Stiprais
- B. Gustavs Rēnšilds
- C. Johans Reinholds Patkuls
- D. Ferdinands Ketlers

4.



- A. Stefans Batorijs
- B. Gustavs II Ādolfs
- C. Gothards Ketlers
- D. Sigismunds II Augusts

5.



- A. Gothards Ketlers
- B. Jans Zamoiskis
- C. Boriss Šeremetjevs
- D. Jans Karols Hodkevičs

6.



- A. Gustavs II Ādolfs
- B. Gothards Ketlers
- C. Jans Sapega
- D. Krištofs Radzivils

7.



- A. Pēteris I
- B. Pēteris III
- C. Frīdrihs Vilhelms I
- D. Augusts II Stiprais

8.



- A. Gustavs I
- B. Gothards Ketlers
- C. Stefans Batorijs
- D. Sigismunds II Augusts

9.



- A. Gustavs Renšilds
- B. Kārlis X Gustavs
- C. Kārlis IX
- D. Sigismunds III Vasa


10.



- A. Aleksejs Menšikovs
- B. Boriss Šeremetjevs
- C. Johans Reinholds Patkuls
- D. Augusts II Stiprais

8. uzdevums. Aplūko attēlus un atpazīsti pilsētas un apdzīvotas vietas Latvijas teritorijā 16.-18.gs.! Apvelc pareizo atbildi!
(6 punkti)

1.




- A Jelgava
- B Bauska
- C Talsi
- D Daugavpils

2.



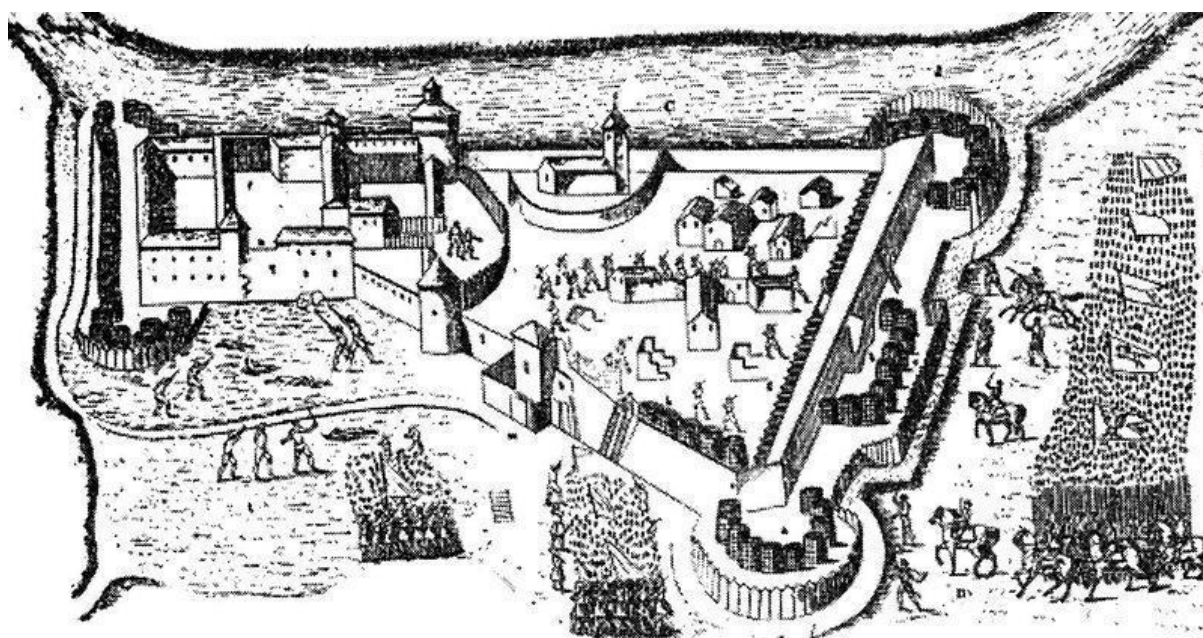
- A Daugavgrīva
- B Liepāja
- C Bauska
- D Jelgava

3.




- A Kuldīga
- B Rīga
- C Jēkabpils
- D Bauska

4.



- A Cēsis
- B Valmiera
- C Bauska
- D Koknese

5.



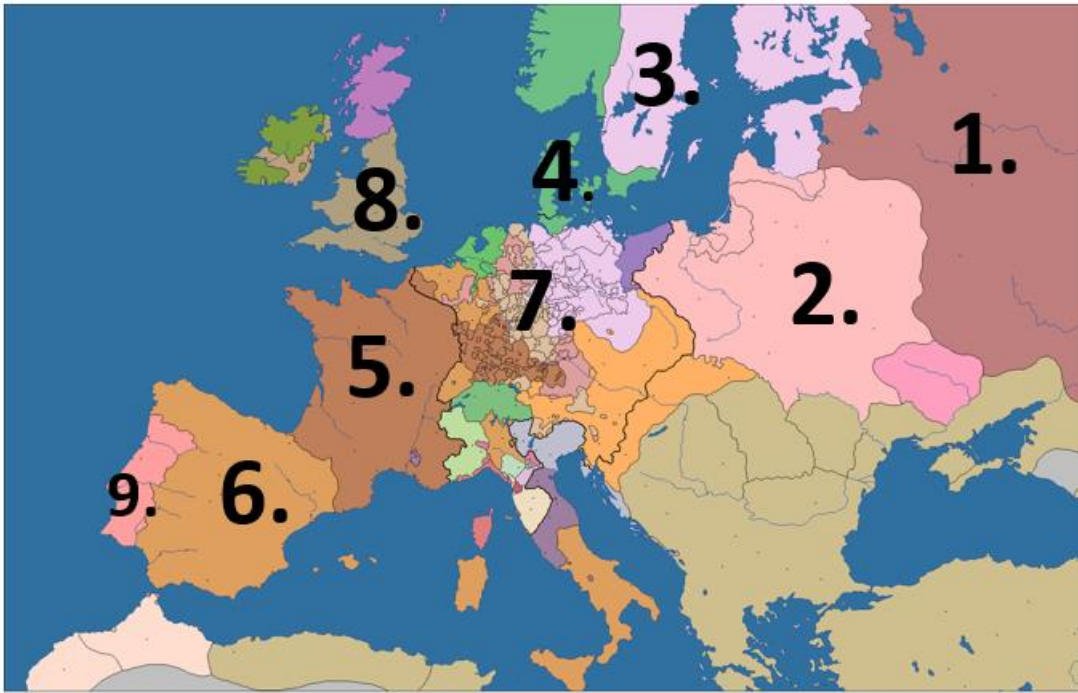
- A Koknese
- B Jēkabpils
- C Kuldīga
- D Valmiera

6.



- A Kuldīga
- B Liepāja
- C Rīga
- D Tallina

9. uzdevums. Izpēti Eiropas karti 17.gs. vidū! Atpazīsti ar cipariem apzīmētās valstis!
(9 punkti)



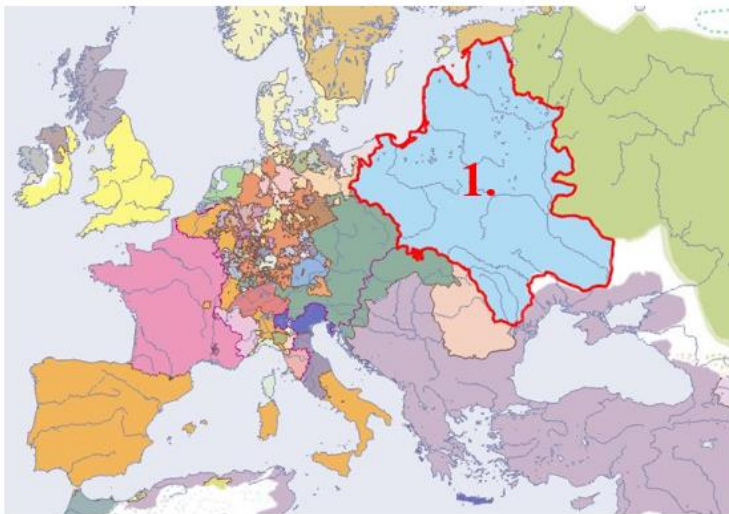
Izvēles varianti: Vācu Svētās Romas impērija, Šveice, Polija – Lietuva, Krievija, Francija, Zviedrija, Osmaņu impērija, Anglija, Spānija, Portugāle, Austrija, Nīderlande, Dānija, Livonija.

1. _____
2. _____
3. _____
4. _____
5. _____
6. _____
7. _____
8. _____
9. _____

10. uzdevums. Atpazīsti kartē atzīmēto valsti! Nosaki kad izveidojās kartē atzīmētās valsts robežas! (8 punkti)

Valstis: Livonija, Polija – Lietuva, Prūsija, Norvēģija, Krievija, Austrija, Zviedrija, Dānija.

1.

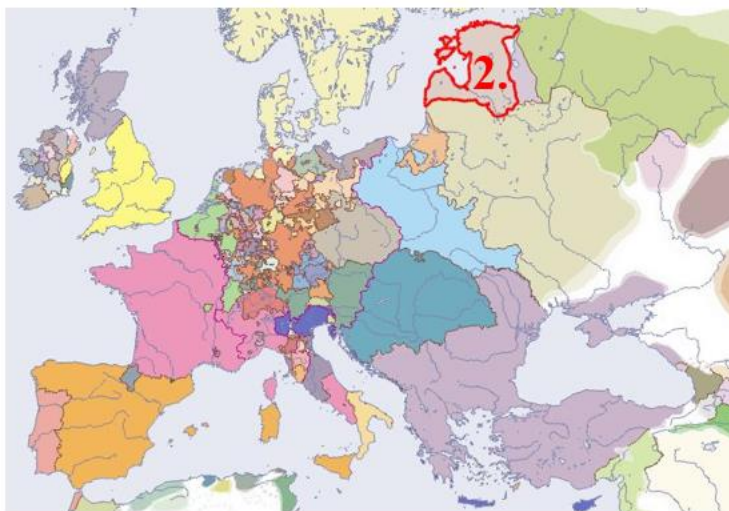


Ar nr.1 kartē
apzīmēta _____

Nosaki, kad izveidojās kartē atzīmētās valsts robežas!

- A. 1561
- B. 1629
- C. 1721

2.

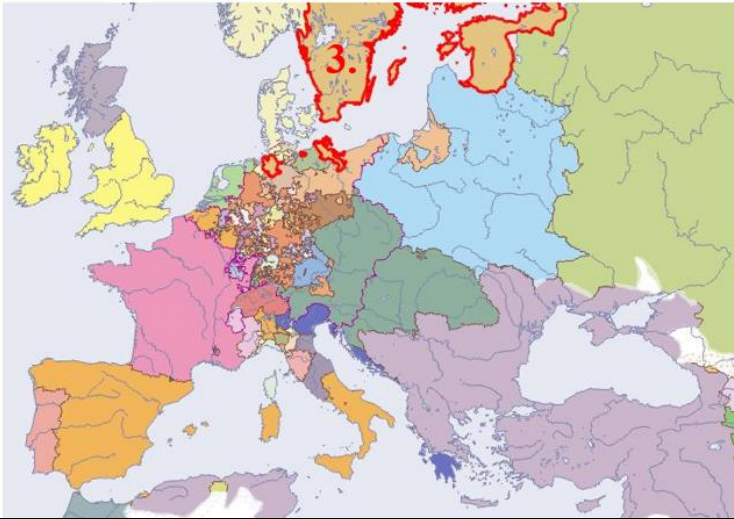


Ar nr.2 kartē
apzīmēta _____

Nosaki, kad izveidojās kartē atzīmētās valsts robežas!

- A. 11.gs.
- B. 13.gs.
- C. 16.gs.

3.

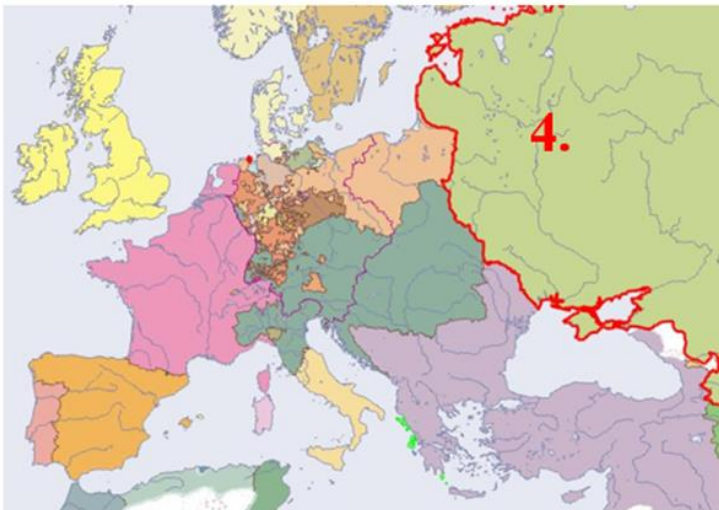


Ar nr.3 kartē
apzīmēta _____

Nosaki, kad izveidojās kartē atzīmētās valsts robežas!

- A. 1629
- B. 1710
- C. 1772

4.



Ar nr.4 kartē
apzīmēta _____

Nosaki, kad izveidojās kartē atzīmētās valsts robežas!

- A. 1561
- B. 1700
- C. 1775

11. uzdevums. Rūpīgi izlasi fragmentu no Baltazara Rusova Livonijas hronikas! Izvēlies pareizo atbildi! (11 punkti)

“Tajā pašā laikā, kad apstākļi **1** tā sarežģījās un daudzas zemes, pilsētas un pilis bija atņemtas, visādi krājumi aizvesti, valdnieku un priekšnieku skaits bija pavisam niecīgs tapis, un pie mestra bija palikusi tikai neliela padome, un mestris viens pats arī bija par vāju cīnīties pret tādu tik stipru ienaidnieku, kuŗam kaujās laime pati nāca pretīm, - mestris ieskatīja par labāko ar visām atlikušām zemēm un pilsētām padoties **2** ķēniņa apsardzībā, lai šīs pilsētas un zemes nenāktu **3** rokās. **4** ķēniņš **5**, paklausīdams mestra priekšlikumam, pārņēma visas no krieviem neieņemtās pilis un zemes **6**. Mestris dabūja dažas **7** zemes un pilis un **8** biskapiju, kā lēni ar mantošanas tiesībām, un **9** hercoga un Zemgales grafa tituli. Tā izbeidzās Livonijas ordenis **10** un nodibinājās divas laicīgas valstis: viena Kurzemē zem hercoga valdības un otra latviešu zemē un **11** biskapijā, kuŗu ķēniņš paturēja sev, un kuŗa līdz šai dienai saucas par Aizdaugavas valstiņu.”

Kuriem burtiem jābūt ciparu vietā? Izvēlies pareizo atbildi!

1 A Livonijā B Zviedrijā C Krievijā D Vācijā	2 A Zviedrijas B Dānijas C Krievijas D Polijas	3 A Dānijas B Krievijas C Zviedrijas D Polijas	4 A Vācijas B Dānijas C Polijas D Lietuvas	5 A Gustavs III B Ivans IV C Sigismunds Augusts D Sigismunds Vasa	6 A Krievijā B Igaunijā C Vācijā D Livonijā
7 A Livonijas B Igaunijas C Kurzemes D Polijas	8 A Rīgas B Kurzemes C Tērbatas D Sāmsalas	9 A Kurzemes B Zemgales C Lietuvas D Prūsija	10 A Sāmsalā B Livonijā C Vācijā D Zviedrijā	11 A Lībekas B Rīgas C Kēnigsbergas D Rēveles	

12. uzdevums. Uzmanīgi izlasi tekstu un tukšajās vietās atzīmē atbilstošo vārdu! (12 punkti)

1700.g. februārī pirmās **1** vienības ieradās Rīgas apkārtnē un uzsāka sagatavošanās darbus pilsētas aplenkšanai. Tika ieņemta visa Pārdaugava, Kobronskansts kā arī salas gar Daugavas kreiso krastu. Jau marta sākumā **2** rokās atradās viss Daugavas kreisais krasts no Rīgas līdz Koknesei. Marta vidū, neskatoties uz smagiem zaudējumiem viņu rokās krita **3** cietoksnis, taču ar to viņu panākumi izbeidzās. Līdz 1700.g. septembrim Rīgas aplenkums norisinājās bez vērā ņemamiem panākumiem un septembra vidū **4** armijas komandieris ģenerālleitnants Flemings noslēdza ar **5** pamieru un atvilka savus spēkus no Rīgas tuvākās apkārtnes, atstājot garnizonus **6** cietoksnī un **7**. Par **8** armijas galveno bāzi tagad tika izraudzīta Koknese.

1701.g. marta sākumā **9** Biržos tikās ar **10** un atkārtoti apstiprināja iepriekšējo savienību, kā arī noslēdza papildvienošanos, saskaņā ar kuru **11**, apmaiņā pret solījumu turpināt Rīgas aplenkšanu, saņēma 15 000-20 000 krievu kājnieku papildspēkus. Pildot noslēgto vienošanos, **12** vienības kopš 1701.g. maija vidus sāka atkal koncentrēties Daugavas kreisajā krastā iepretim Rīgai. Visgarām Daugavas krastam, no Spilves līdz Katlakalnam sakši ierīkoja artilērijas baterijas, kuras apjoza ar palisādēm.

Kuriem burtiem jābūt ciparu vietā? Izvēlies pareizo atbildi!

1 A sakšu B poļu C krievu D zviedru	2 A krievu B sakšu C zviedru D dāņu	3 A Jelgavas B Kokneses C Daugavgrīvas D Māras dzirnavu	4 A poļi B prūši C krievi D sakšu	5 A krieviem B zviedriem C poļiem D sakšiem	6 A Anniņmuižā B Kobronskansts C Daugavgrīvas D Strazdumuižas
7 A Strazdumuižā B Jumpravmuižā C Sužu muižā D Kobronskanstī	8 A poļu B sakšu C leišu D krievu	9 A Pēteris I B Augusts II C Kārlis XII D Ēriks Dālbergs	10 A Augustu II B Kārli XII C Pēteri I D Frīdrihu Vilhelmu I	11 A Augustu II B Pēteri I C Kārli XII D Gustavs I	12 A zviedru B krievu C poļu D sakšu

13. uzdevums. Uzmanīgi aplūko Rīgas pilsētas ģerboni! (2 punkti)


13.1. uzdevums Par kādiem nopelniem Rīgas pilsētas ģerbonis tika papildināts ar Zviedrijas karaļa kroni? (1 punkts)



- A Par Rīgas pilsētas varonīgo pretošanos Zviedrijas karaļa Gustava II Ādolfā aplenkuma laikā 1621.g.
- B Par Rīgas pilsētas varonīgo pretošanos Krievijas cara Alekseja Mihailoviča aplenkuma laikā 1656.g.
- C Par Rīgas pilsētas varonīgo pretošanos Polijas karaļa Augusta II aplenkuma laikā 1700.g.
- D Par Rīgas pilsētas varonīgo pretošanos Krievijas cara Pētera I aplenkuma laikā 1710.g.

13.2. uzdevums. Uzmanīgi aplūko gravīras! Kurā gravīrā parādīti notikumi, kas saistīti ar kroņa pievienošanu Rīgas pilsētas ģerbonim? (1 punkts)

- A
- B
- C
- D








14. uzdevums. Uzmanīgi vēro Latvijas teritorijas karti! (10 punkti)



14.1. uzdevums. Ar **cipariem** kartē atzīmē kauju norises nosaukumus tajās vietās, kur tie ģeogrāfiski ir norisinājušies. (4 punkti)

1. Mūrmuižas kauja	2. Salaspils kauja	3. Spilves kauja	4. Kauja pie Jēkabpils
--------------------	--------------------	------------------	------------------------

14.2. Papildus pie kaujas vietām ar burtiem pieraksti kaujām atbilstošo piemiņas zīmi. (6 punkti)

<p>A</p> 	<p>B</p> 	<p>C</p> 
<p>D</p> 	<p>E</p> 	<p>F</p> 