

8.3.2.1./16/I/002

**NACIONĀLA UN STARPTAUTISKA MĒROGA PASĀKUMU ĪSTENOŠANA
IZGLĪTOJAMO TALANTU ATTĪSTĪBAI**

Strūgu iela 4, Rīga, LV-1003, tālr. 67350966, e-pasts: info@832.visc.gov.lv

**Vēstures valsts 29. olimpiādes vidusskolai
2. posma uzdevumi**

1. Uzrakstiet skaidrojumam atbilstošu jēdzienu! (*Jēdziens nosaukts nominatīvā, vienskaitlī, bez gramatiskajām kļūdām pierakstā*) 10 punkti

18. gs. radusies un 19. gs. nostiprinājusies teorija par valsts un valdības bezjēdzību, jo indivīdi ir pilnīgi vienlīdzīgi un var pašorganizēties, balstoties uz tikumības normām	
Ideoloģijas un politikas princips, kas izpaužas nāciju savstarpējās neuzticēšanās un savstarpēja nacionāla naida izraisīšanā, vienas nācijas izcelšanā pār citām, citu tautu pakļaušanā	
Atbrīvošana vai atbrīvošanās no atkarības, pakļautības, aizspriedumiem, līdzvērtīga sabiedriska stāvokļa iegūšana	
18.gs. radusies un 19. gs. nostiprinājusies ideoloģija un politiska kustība, kas cīnās par sieviešu līdztiesību un sociālo līdzvērtību	
Sieviešu idejiskā kustība, kura radās 19. gadsimta 2. pusē un kuras mērķis ir panākt vēlēšanu tiesību vienlīdzību ar vīriešiem	
Sabiedriska organizācija, kas apvieno noteiktā tautsaimniecības nozarē strādājošos un kalpotājus un aizstāv viņu intereses	
Politiska ideoloģija, kas radās 19. gadsimta beigās kā strādnieku kustība, tās mērķis ir pakāpeniski, ar demokrātiskām metodēm pārstāvnieciskā demokrātijā izveidot vienlīdzīgu sabiedrību, tā aicina veicināt sociālo taisnīgumu ar valsts iejaukšanos tirgus ekonomikā.	
Politiska kustība, kas radusies 19.gs. beigās ar mērķi apvienot pasaulē izklaidus dzīvojošos ebrejus, apturēt viņu asimilāciju un izveidot ebreju valsti	
Lielvalstu politika, kas orientēta uz jaunu teritoriju iegūšanu, ietekmes izplatīšanu tālu aiz savām robežām ar diplomātijas, militāro draudu, ekonomiskās un finansiālās iespēšanās palīdzību	
Pārmaiņas, kuru cēlonis ir Rietumeiropai raksturīgo pārvaldības un uzvedības modeļu, sociālo un kultūras uzskatu, vērtību un uzvedības modeļu eksports uz valstīm, kuras ģeogrāfiski vai kultūras ziņā nepieder Rietumeiropai	

2. Izlasi informācijas avota fragmentu un ieliec X pie ideoloģijas, kuru tas pārstāv!
(5 punkti)

a) Apsīšu Jēkabs: " (...)Zinām jau un pazīstam mēs diezgan tās mūsējo "plašās", "brīvās" un "cēlās" idejas, riebtin apriebies mums ir dzirdēt tās nodeldētās frāzes par "sieviešu" vai līdzīgām tiesībām, tā tagad ir it kā atspirdzinājums dzirdēt par jaunavām, kas mājas un dzimtspagalmā meklē un atrod apmierinājumu un darba lauku."

- Feminisms
- Konservatīvisms
- Liberālisms
- Sociālisms
- Nacionālisms

b) Aspazija: "Es neprasu, lai sievietēm arī būtu atļauja uz netikumību tādēļ, ka vīrietis ir netikumīgs, bet es prasū, lai tie abi vienādi būtu tikumīgi. Ja vīrietis no savas nākamās dzīves biedres prasa, lai tā būtu nevainīga un neaizskarta, tad tai tiesība taisni to pašu no viņa prasīt," tad man par to no visām pusēm uzbruka un teica, ka "tā es gribot ieviest netikumību.(..)"

- Feminisms
- Konservatīvisms
- Liberālisms
- Sociāldemokrātija
- Nacionālisms

c) Marija Medinska: "Sieviete tautā ir tā puse, kurā sirds pukst, un tamdēļ šī tautas sirds puse ir ievērojama. Sieviete jāpaceļas ētiski un sabiedriski, viņai jābūt latviskā goda un iekšējā spēka glabātājai."

- Feminisms
- Konservatīvisms
- Liberālisms
- Sociālisms
- Nacionālisms

d) Dž. Kiplings "Baltā vīra nasta" (Atdzejojis I.Butulis)

"Uzņemieties baltā vīra nastu-
Sūtiēt labākos, lai tie pa džungļiem steidz,
Kļūstiet jūs par apbruņotu kastu,
Kura mežonīgo glēvo pūli veic.
Dabas bērņus, melno velnu baru
Turiet stungri, tikko gūstītos!
Rādiēt droši baltā vīra garu-
Sērgas apturiēt un badu izbeidziet!"

- Sociālisms
- Konservatīvisms
- Liberālisms
- Imperiālisms
- Rasisms

e) Pārbaudes darba uzdevumi Vācijas kolonijas Togo skolā 1909.

20. novembrī pēc glītrakstīšanas un pareizrakstības, kura ilgst pusstundu, notiek ģeogrāfijas stunda: a) lielākās Eiropas valstis un to galvaspilsētas;

b) lielākās Vācijas upes un kalni.

Pēcpusdienā rakstu darbs: "Kādas labas lietas mums ir atnesuši eiropieši?" Lasīšana no lasāmgrāmatas, sauktas par Trīs ķeizaru grāmatiņu.

- Nacionālisms
- Konservatīvisms
- Liberālisms
- Rasisms
- Eiropēizācija

f) P. Pfifers: "(..) no tiesiskuma aspekta vairākuma griba ir pārāka par mazākuma gribu; tomēr tā augstākais tiesību princips ir nevis patvaļīga vairākuma tiesību kundzība, bet gan iespējami lielāka brīvība visiem."

- Nacionālisms
- Konservatīvisms
- Liberālisms
- Rasisms
- Demokrātija

3. Saliec notikumus hronoloģiskā secībā no senākā uz jaunāko! (10 punkti)

- A. Kārlis Ulmanis veic valsts apvērsumu
- B. Nāciju līgas izveidošana
- C. Tilzītes miera līgums
- D. Vīnes miera kongress
- E. Austroungārijas izveidošana
- F. Jaunās strāvas kustība
- G. Balkānu krīze un Londonas līgums
- H. Molotova Ribentropa pakta parakstīšana
- I. Oslo līgums
- J. Pieņemta Latvijas Republikas Satversme

4. Ieraksti no dotajām raksturojumam atbilstošu personību! (Personību ir vairāk) 10 punkti



Nikolajs II, Aleksandrs II, Aleksandrs III, Vilhelms I, Vilhelms II, Napoleons III, Francis Jozefs I, Oto fon Bismarks, Čarlzs Parnels, Džons Stjuarts Mills, Eduards Tāfe, Čarlzs Darvins, Vladimirs Uļjanovs, Kārlis Markss, Aleksis de Tokvils


raksturojums	personība
Monarhs, konservatīvisma piekritējs, kurš ienāda jebkādas pārmaiņas, bija viens no visilgāk valdījušajiem Eiropas valdniekiem	
Filozofs, liberālis, grāmatas "Par brīvību" autors	
Zinātnieks, organiskās pasaules evolūcijas teorijas pamatlicējs, pētījuma «Sugu izcelšanās» autors	
Pirmais kanclers, konservatīvisma ideoloģijas piekritējs, valstī īstenoja t.s. cīņu par vienotu kultūru - Kulturkampf, kuras mērķis bija kulturālā unifikācija	
Ministru prezidents, liberālis, centās realizēt izmaiņas vēlēšanu likumā un nāciju samierināšanās politiku, čehi ieguva nacionālās valodas lietošanas tiesības	


Monarhs, izteikts konservatīvisma piekritējs, antisemīts, izdeva Patvaldības negrozāmības manifestu	
Nacionālisma piekritējs, Īrijas nacionālās zemes līgas dibinātājs, Īru parlamentārās partijas līderis	
Marksists, KSDS(b)P izveidotājs, filozofiskā darba "Materiālisms un empiriokriticisms" autors, vēsturiskā materiālisma teorijas piekritējs, imperiālisma teorētiķis	
Monarhs, kurš solīja jaunas reformas "gaišajiem nākotnes laikiem" un "jaunā kursa" ieviešanu, palielinot savas pilnvaras, izvērsot valsts bruņošanās un forsēta koloniālisma politiku	
Monarhs, kurš izdeva Oktobra manifestu, bet ierobežoja Somijas autonomiju likumdošanā	

5. Atpazīsti personību, ieraksti klāt no dotajiem atbilstošu vārdu, uzvārdu! (Ir neiederīgas izvēles.) 7 punkti

Nikolajs II, Vilhelms II, Aleksandrīna Viktorija I, Aleksandrs III, Francis Jozefs I, Bavārijas Elizabete, Oto fon Bismarks, Čarlzs Darvins, Vladimirs Uļjanovs, Kārlis Markss, Aspazija, Elizabete I.

Fotogrāfija	Vārds, uzvārds
	
	





6. Aplūko kartes un izpildi uzdevumus! 6 punkti

Karte A	Karte B	Karte C
	— Latvijas Pagaidu valdībai uzticamo bruņoto spēku kontrolētā teritorija	
	— Vācijas armijas kontrolētā teritorija	
	— Lielinieku kontrolētā teritorija	
	— Igaunijas armijas kontrolētā teritorija	

6.1. Uzraksti Latvijas vēstures notikumu, kurš attēlots dotajās kartēs (2 lietvārdi)!

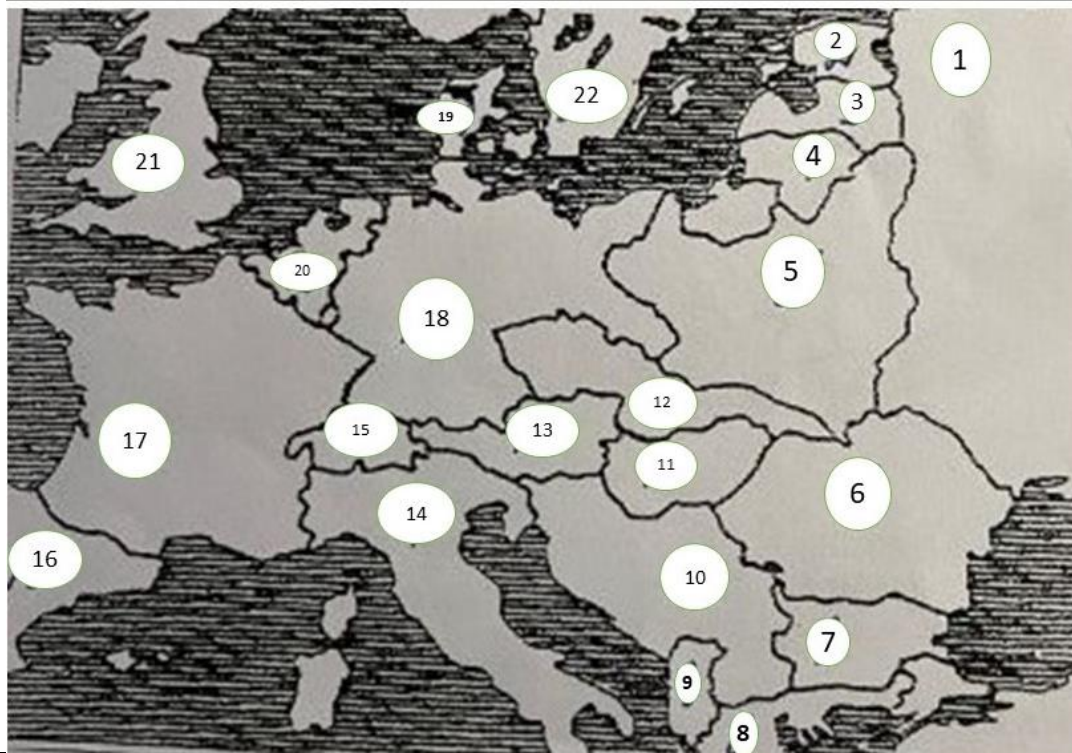
6.2. Kurā Latvijas kultūrvēsturiskajā novadā notika pēdējās cīņas?

6.3. Atzīmē Latvijas Republikas sabiedrotās šajās cīņās!

- Igaunija
- Vācija
- Padomju Krievija
- Polija
- Zviedrija

6.4. Sakārto kartes hronoloģiskā secībā! _____

7. Izlasi valstu aprakstus un pieraksti klāt ciparu no kartes! 10 punkti



- Valsts, kura izveidojās, sabrūkot 3 impērijām. _____
- Valsts, kura tika izveidota pēc Balkānu kariem 1913. gadā. _____
- Valsts, kura 1920. gadā zaudēja savu galvaspilsētu un teritoriju ap to. _____
- Valsts, kura dibināta 1918. gada 24.februārī. _____
- Valsts, kurā izveidojās politisko spēku apvienība „Tautas fronte”. _____
- Valsts, kurā 1922. gadā izveidots fašistu režīms. _____
- Valsts, kura tika uzskatīta par Austroungārijas tiešo mantinieci. _____
- Valsts, kura realizēja golodomoru. _____
- Valsts, kurā bija Tautu Savienības mītne. _____
- Valsts, kura zaudēja daļu teritorijas pēc Minhenes vienošanās. _____

8. Skandināvijas valstis mūsdienās izceļas ar savu ekonomisko stabilitāti, liberālismu politikā un individualizētu skatījumu uz ārpolitiku. **Izvērtējiet dotos apgalvojumus par Eiropas ziemeļvalstu vēsturi, ieliekot X pie atbilstoša!** 10 punkti

apgalvojums	jā	nē
Pēc 1848.gada revolūcijām pastāvēja neatkarīgas Zviedrijas, Dānijas, Norvēģijas un Islandes valstis.		
19. gadsimta II pusē Zviedrijā, Dānijā, Norvēģijā un Islandē notika idejiska un fiziska cīņa par sabiedrības pārstāvniecību likumdošanā un plašākām vēlēšanu tiesībām		
19. gadsimta 70.-80. gados Dānijā, Norvēģijā, Zviedrijā tika dibinātas strādnieku un sociāldemokrātu partijas		
Jouns Sigurdsons bija dāņu nacionālās kustības virzītājs 19. gadsimtā		
Liberālisms, nacionālisms, sabiedrības izglītība un samērā lielā pilsētnieku vidusšķira veicināja pilsoniskās sabiedrības veidošanos Eiropas ziemeļvalstīs 20. gadsimta sākumā.		
Pēc 20. gs. 30. gadu lielās depresijas un daudzajiem streikiem darba tirgus apstākļi Zviedrijā un Norvēģijā spēja piedāvāt saviem biedriem atbalstu no		

“šūpuļa līdz kapam”, jo darbojās dažādas kultūras, izglītības, sporta, pašpalīdzības, brīvā laika pavadīšanas organizācijas		
Pēc pilsoņu kara Somija ieguva neatkarību 1907. gadā		
Balsstiesības sievietēm Somijā, Norvēģijā un Dānijā piešķīra pēc I Pasaules kara		
1933. gadā Dānija, pēc Hāgas tribunāla lēmuma atzina, ka Austrumgrenlande ir Norvēģijas sastāvdaļa.		
Pirms II Pasaules kara Norvēģija, Dānija, Somija un Zviedrija vairākkārt mēģināja vienoties par kopīgu aizsardzību vai neitralitāti iespējamā uzbrukuma gadījumā, taču vienošanās netika panākta		

9. Uzmanīgi izlasi informācijas avotu un izvēlies precīzākās atbildes uz jautājumiem! 10 punkti

Avīzes “*Berliner Illustrierte Zeitung*” veiktās sabiedrības aptaujas rezultāti, 1899. gads (tulkotais avots publicēts V. Klišāna “*Vēsture vidusskolai II daļa Praktikumus*” 2009. gadā)

“Jautājums. Kurš ir ievērojamākais valstsvīrs šajā gadsimtā?

Atbilde. Bismarks.

Jautājums. Kurš ir ievērojamākais karavadonis šajā gadsimtā?

Atbilde. Napoleons Bonaparts, Moltke.

Jautājums. Kuram jūs piešķirtu šī gadsimta varoņa titulu?

Atbilde. Vilhelmam I, Bismarkam, Garibaldi.

Jautājums. Kura ir šī gadsimta ievērojamākā sieviete?

Atbilde. Karaliene Luīze (Prūsijā), Karaliene Viktorija, Žorža Sanda.

Jautājums. Kurš ir ievērojamākais izgudrotājs šajā gadsimtā?

Atbilde. Edisons, Stefensons, Morze, Fultons.

Jautājums. Kas ir šī gadsimta lietderīgākais izgudrojums/atklājums?

Atbilde. Dzelzceļš, elektrība, tvaikonis, telegrāfs.

Jautājums. Kas bija nozīmīgākais vēsturiskais notikums šajā gadsimtā?

Atbilde. Vācijas apvienošana, Napoleona sagrašanās, 1848. gada revolūcija.

Jautājums. Kura bija ievērojamākā kauja šajā gadsimtā?

Atbilde. Kauja pie Leipcigas, kauja pie Sedan.

Jautājums. Kas ir šī gadsimta civilizācijas lielākais sasniegums?

Atbilde. Vergu emancipācija, sociālā likumdošana Vācijā, Suecas kanāls.

Jautājums. Kurš bija šī gadsimta laimīgākais periods?

Atbilde. Viss gadsimts, 1871.-1899. gads.

Jautājums. Kurš bija šī gadsimta nelaimīgākais periods?

Atbilde. 1806-1812. gads, 1815.-1848. gads, 1848. gads, 1878.-1890. gads.

Jautājums. Kuri bija trīs ievērojamākie berlīnieši šajā gadsimtā?

Atbilde. Aleksandrs fon Humbolts, Vilhelms I, Vilhelms II.”

9.1. Kuru valstu aktualitātes interesē berlīniešus?

- A. Prūsijas, Francijas, Lielbritānijas, Itālijas
- B. Vācijas, ASV, Francijas, Anglijas, Itālijas
- C. Vācijas, Francijas, Lielbritānijas, Itālijas
- D. Vācijas, Lielbritānijas, ASV, Itālijas, Francijas
- E. Prūsijas, Francijas, Lielbritānijas, ASV

9.2. Kas bija Moltke?

- A. Prūsijas armijas Ģenerālštāba priekšnieks Franču-prūšu kara laikā
- B. Francijas armijas Ģenerālštāba priekšnieks Franču-vācu kara laikā

- C. Prūsijas armijas Ģenerālštāba priekšnieks Franču-vācu kara laikā
- D. Franču-prūšu kara varonis, Vācijas apvienotājs
- E. Franču-prūšu kara varonis, izgudrotājs

9.3. Kuru ideoloģiju lielāko sava mūža daļu pārstāvēja Vilhelms I, Bismarks, Garibaldi?

- A. Nacionālismu
- B. Liberālismu
- C. Konservatīvismu
- D. Imperiālismu
- E. Sociālismu

9.4. Kāpēc berlīnieši Žoržu Sandu uzskata par ievērojamu sievieti?

- A. Viņa bija izcila rakstniece, berlīniete, feministe
- B. Viņa bija produktīva rakstniece, francūziete
- C. Viņa bija izcila feministe, rakstniece, vāciete
- D. Viņa bija izcila feministe, rakstniece, francūziete
- E. Viņa bija produktīva rakstniece, atbalstīja emancipāciju, francūziete

9.5. Kāpēc berlīnietim ir svarīgs Suecas kanāls?

- A. Tā atklāšanā piedalījās slavenais politiķis Henriks Ibsens
- B. Tā būvēšanā piedalījās arī vācieši
- C. Tas bija labs ieguvums pasaules un Vācijas ekonomikai
- D. Suecas kanāla būvēšana atrisināja Vācijas iekšpolitiskās problēmas
- E. Tas nekādi neietekmēja berlīniešu dzīvi

9.6. Ar ko slavena kauja pie Sedanā?

- A. Apvienotais vācu karaspēks uzvarēja Napoleonu I
- B. Apvienotais vācu karaspēks saņēma gūstā Napoleonu III, sakāva franču karaspēku
- C. Franču karaspēka sakāve un Napoleona II saņemšana gūstā
- D. Prūšu karaspēks saņēma gūstā Napoleonu III, sakāva franču karaspēku

9.7. Kāpēc 1871.-1899. gadu berlīnieši uzskata par laimīgu periodu?

- A. Nebija karu, bija lepnums par Francijas sakāvi
- B. Vācija bija apvienota, kļuva par republiku un sākās uzplaukums
- C. Vācija bija apvienota, sākās sociālekonomiskais uzplaukums
- D. Vācija bija apvienota, ieguva nacionālo identitāti un sociālistu vairākumu reihstāgā
- E. Vācija bija apvienota, ieguva nacionālo identitāti

9.8. Kāpēc 1848. gadu berlīnieši sauc par nelaimīgu periodu?

- A. Notika 1848.-1849. gada revolūcijas
- B. 1848. gada revolūcijā Berlīnē gāja bojā simtiem cilvēku, tika izveidota liberāļu valdība
- C. 1848. gadā notika Sociālistiskās partijas izraisītas revolūcijas, karalis atkāpās
- D. Lielā daļā Eiropas valstu notika asiņainas revolūcijas – Tautu pavasaris
- E. 1848. gadā notika Liberāļu partijas izraisītas revolūcijas

9.9. Kādā nozīmē tajā laikā Berlīnē tiek lietots jēdziens “sociālā likumdošana”?

- A. Vecuma pensiju politika strādājošajiem
- B. Vienādas algas sievietēm un vīriešiem par vienu un to pašu darbu
- C. Slimokasu un apdrošināšanas likumu (tai skaitā nelaimes gadījumos) izveide
- D. Slimokasu izveidošana, bezdarbnieku pabalsti
- E. Viss iepriekš minētais

9.10. Kas bija Aleksandrs fon Humbolts?

- A. Dabaszinātnieks, ģeogrāfs un viens no pirmajiem klimata pētniekiem
- B. Izglītības ministrs, valodnieks un literāts
- C. Dabaszinātnieks un valodnieks, saukts par vācu Aristoteli
- D. Izglītības ministrs, biologs
- E. Ģeogrāfijas kā zinātnes izveidotājs

10. Atpazīsti, kurā impērijā uzņemta fotogrāfija! Zem fotogrāfijas pieraksti vienu no impērijām: *Vācijas impērija, Krievijas impērija, Austroungārijas impērija* (7 punkti)







F




G

11. Izlasi vēstures avota fragmentu, nosaki, kurš dokuments ir citēts, kurā datumā tas tapis! Apvelc pareizās atbildes! 14 punkti

Citāts	Dokuments	Datums
<p>“Brāļi, kara pienākumi jānes visiem, bet lai stājamies zem karoga no brīva prāta savas dzimtenes labā! Latvju dēli, atsaucieties - pati dzimtene jūs sauc! Un jūs, kas esat izklīduši pa tāliem, svešiem lielceļiem un minat bēgļu tekas - apstājaties: dzimtene jūs sauc”.</p>	<p>A) Pagaidu valdības uzsaukums Latvijas tautai Bermonta uzbrukuma laikā B) Krievijas Valsts domnieku J.Goldmaņa un J.Zālīša uzsaukums latviešu tautai C) A.Niedras uzsaukums latviešu tautai</p>	<p>A) 1915.gada 19.jūlijā B) 1919.gada 11.novembrī C) 1919. gada 16.martā</p>
<p>“Latvija apvienota etnogrāfiskās robežās (Kurzeme, Vidzeme un Latgale) ir patstāvīga, neatkarīga, demokrātiska un republikāniska valsts”.</p>	<p>A) Tautas padomes un Pagaidu valdības paziņojums par Latvijas republikas nodibināšanu B) LR Satversme C) LR un Padomju Krievijas miera līgums</p>	<p>A) 1918.gada 17.novembrī B) 1918.gada 18.novembrī C) 1920.gada 11.augustā</p>
<p>“Tā ar prieku atkal apliecinu savu gatavību dot pagaidu atzīšanu Latviešu nacionālajai padomei”.</p>	<p>A) Tautu Savienība de iure atzīst Latvijas Republiku B) Padomju Krievija de facto atzīst Latvijas Republiku C) Lielbritānijas ārlietu ministra A.Dž. Balfūra vēstule Z.Meierovicam</p>	<p>A) 1921. gada 26. janvāris B) 1920. gada 15. februāris C) 1918. gada 11. novembris</p>
<p>“Aizliegt uzturēties savā teritorijā jebkādam karaspēkam, izņemot valdības vai tādu draudzīgu valstu karaspēku, ar kurām viena no līdzejām pusēm noslēgusi kara konvenciju, bet kuras neatrodas faktiskā kara stāvoklī ar otru līdzeju pusi”.</p>	<p>A) LR un PSRS neuzbrukšanas līgums B) LR un Padomju Krievijas miera līgums C) Savstarpējās palīdzības pakts starp LR un PSRS</p>	<p>A) 1920. gada 11.augusts B) 1939.gada 5.oktobris C) 1939. gada 23. augusts</p>
<p>“Dos mums Latviju, kurā nebūs vietas ne šķiru, ne naida politikai, kur vienādi būs visi Latvijas darbīgie tautas dēli – zemnieks un pilsētnieks, strādnieks un ierēdnis; kur nebūs plaisu starp pašu tautu un viņas izaudzēto inteliģenci. Latviju, kur uzgavilēs latviskais un zudis būs svešais”.</p>	<p>A) K.Ulmaņa valdības manifests, uzsaukums Latvijas tautai B) Pagaidu valdības uzsaukums Latvijas tautai Bermonta uzbrukuma laikā C) Raiņa uzruna Satversmes sapulces atklāšanas sapulcē</p>	<p>A) 1919.gada 10.novembris B) 1920. gada 1.maijs C) 1934.gada 16.maijs</p>
<p>“Pie Daugavas - māmuļas krastiem izšķiras dzimtenes liktenis. Tagad pēdējā stunda! Nākat visi palīgā ar savu dzīvību un ar savu mantu”.</p>	<p>A) Pagaidu valdības uzsaukums Latvijas tautai Bermonta uzbrukuma laikā B) Krievijas Valsts domnieku J.Goldmaņa un J.Zālīša uzsaukums latviešu tautai C) K.Ulmaņa valdības manifests, uzsaukums Latvijas tautai</p>	<p>A) 1915.gada 19.jūlijā B) 1919.gada 11.novembrī C) 1918. gada 17. novembrī</p>

<p>“Abas Līdzējas Puses apņemas sniegt viena otrai visādu palīdzību, ieskaitot arī militāru, gadījumā ja notiktu tiešs uzbrukums vai rastos uzbrukuma draudi no jebkuras Eiropas lielvalsts puses Līdzēju Pušu jūras robežām Baltijas jūrā vai viņu sauszemes robežām”.</p>	<p>A) LR un PSRS neuzbrukšanas līgums B) LR un Padomju Krievijas miera līgums C) Savstarpējās palīdzības pakts starp LR un PSRS</p>	<p>A) 1939. gada 5.oktobris B) 1932.gada 5.februāris C) 1920.gada 11.augusts</p>
---	---	--

12. Izpēti karikatūru un izvēlies precīzāko atbildi! 5 punkti



Uzraksts uz lapas: 08

Dzejoļa tulkojums:

“Trīskāršā alianse — sadalītā alianse.

(..)

Mazais klieudz: “Es negribu iet ar tevi, Es gribu spēlēties ar Geckeli!””

12.1. Kurā gadā varēja būt tapusi karikatūra?

- 1897.
- 1882.
- 1908.
- 1915.

12.2. Kuru valsti simbolizē A kungs?

- Krieviju
- Vāciju
- Itāliju
- Austroungāriju

13. 3. Kuru valsti simbolizē B kungs?

- Krieviju
- Vāciju
- Itāliju
- Austroungāriju

12. 4. Kuru valsti simbolizē C kungs?


- Krieviju
- Vāciju
- Itāliju
- Austroungāriju

12. 5. Kuru valsti simbolizē gailis?

- Franciju

- Albāniju
- Serbiju
- Turciju

13. Izpēti karikatūru un izvēlies precīzāko atbildi! 5 punkti



13.1. Kurā gadā varēja būt tapusi karikatūra?

- 1882.
- 1905.
- 1918.
- 1915.

13.2. Kas ir A kungs?

- Vilhelms II
- Francis Jozefs I
- Žoržs Klemanso
- Sultāns Rešets Mahmeds V

13.3. Kāpēc viņš guļ uz 2 dažādiem krēsliem?

- Jo nevarēja izvēlēties, kuru aliansi I PK atbalstīt
- Jo viņa valsts sastāvēja no divām daļām
- Jo viņa valsti savā starpā sadalīja kaimiņi


13.4. Kas ir B kungs?

- Vilhelms II
- Francis Jozefs I
- Žoržs Klemanso
- Sultāns Rešets Mahmeds V

13.5. Kurai problēmai veltīta karikatūra?

- Trejsavienības izveidošana
- Trejsavienības sabrukums
- Nacionālās nesaskaņas Austroungārijā un neveiksmes I PK
- Nacionālās nesaskaņas Austroungārijā

14. Izpēti karikatūru un izvēlies precīzāko atbildi! 5 punkti



14.1. Ko simbolizē A kungs?

- Nikolaju II
- Ļeņinu
- Karlu Marksu
- Komunistu

14.1. Ko simbolizē B kungs?

- Ebrejus
- Aristokrātus
- Garīdzniekus un bajārus
- Budžus un kulakus

14.2. Ko simbolizē C kungs?

- Monarhistus
- Garīdzniekus
- Nikolaju II
- Budžus un kulakus

14.3. Kurai problēmai veltīta karikatūra?

- Februāra revolūcijai Krievijā
- Pasaules sociālistiskajai revolūcijai
- Oktobra revolūcijai Krievijā
- Pilsoņu karam Krievijā

15. Izpēti 1890. gada karikatūru, izvēlies atbilstošāko skaidrojumu! 1 punkts



- A Sievieteī jāuzņemas iniciatīva attiecību veidošanā, jo vīrieši ir vāji.
- B Sieviete ir trausla būtne, kurā guļ tīģeris.
- C Emancipēta sieviete ir drauds vīriešiem, tā nav pieņemama.
- D Emancipācija ir dažu sieviešu kaprīze, tā nav sabiedrības norma.

16. Darbs ar video <https://www.youtube.com/watch?v=GXB7ypn0vzA&ab>

Noskaties video (tas ir bez skaņas) un papildini tekstu! *Gadskaitļus raksti ar cipariem, aiz gadskaitļiem, kur nepieciešams, liec punktu, piemēram, 18.gs.! 9 punkti*

Kino kā mākslas un izklaides veids pasaulē pazīstams kopš _____ gadsimta beigām. Lai gan varētu šķist, ka Latvijas kino vēsture nebūt nav tik sena, tomēr tikai pusgadu pēc pirmā pasaules publiskā kino seansa, ko demonstrēja brāļi Luijs un Ogists Limjēri 1895. gada 28. decembrī Parīzes kafejnīcā “*Salon Indien du Grand Café*”, kinofilmas tika izrādītas arī mūsu pilsētā _____. Tā bija _____ impērijas trešā lielākā pilsēta, kurā tika izrādīts jaunais izklaides veids – kino jeb kinematogrāfs.

Dotajā videofragmentā redzama _____ gada imperatora _____ vizīte impērijas trešajā lielākajā pilsētā. Imperators ierodas pilsētā ar jahtu “_____”, lai piedalītos Pētera I pieminekļa atklāšanā. Imperators tiek sagaidīts Daugavmalā. Divjūgā viņš kopā ar svītu dodas uz _____ namu, tur viņu sagaida skolnieces. Notiek svinīga pieminekļa atklāšana un iesvētīšana, ceremonijā piedalās daudzi _____ baznīcas garīdznieki. Tālāk imperators dodas vērot _____ parādi.