

SATURS

1. Termini:	15 min	max.20
lappuses: 1 darba lapa		
2. Eiropa	40 min	max. 40
lappuses:3 darba lapas (Tabula, Fakti un karte (DL1); Ģērboņi (DL2))		
3. Reljefa formas	10 min	max. 12
lappuses: 1 darba lapa		
4. Uzdevums	40 min	max. 30.5
lappuses: darba lapas - 7lpp		
5. Rīsi.	40 min	max.24
lappuses: darba lapas- 4lpp		
6. Apgalvojumi	35 min	max 30
lappuses: darba lapas -5lpp		

Kopējais apdomas laiks uzdevumiem: 3 h (drīkst beigt ātrāk) vēlams
taisīt pārtraukumu pēc 3 kārtas

Kopējais punktu skaits : 156,5

Kopējais lappušu skaits: 22

Nepieciešamais / vēlamais inventārs darba izpildei: pildspalva, zīmulis,
kalkulators

1.uzd. Terminu [dalībniekiem]

Izvēlieties dotajam skaidrojumam atbilstošo jēdzienu! Uzmanību katram skaidrojumam atbilst tikai viens jēdziens, ir liekie.

	Skaidrojums	Jēdziens
1	Ekonomiskās darbības brīvības paplašināšana, mazinot valsts regulējošo lomu.	
2	Apstākļi ūdenstilpē, kad pateicoties biogēno elementu koncentrācijas pieaugumam, ievērojami palielinās bioloģisko procesu intensitāte.	
3	Atstarotās un tiešās radiācijas attiecība - skaitlis, kas norāda priekšmeta atstarotās saules staru enerģijas daļu.	
4	Augsnes organiskā daļa, kas radusies, mikroorganismu darbības un fermentu ietekmē bioķīmiski pārveidojoties un sadaloties atmirušajām augu un dzīvnieku atliekām, kas saistījušās ar augsnes minerālvielām pret noārdīšanos izturīgos savienojumos.	
5	Cilvēka fiziska un/vai garīga atpūta no darba brīvajā laikā.	
6	Dažādu valstu savstarpēju līgumu un apvienību slēgšana, ar mērķi tuvināt to tautsaimniecību.	
7	Gaisa temperatūras pieaugšana troposfērā līdz ar augstuma palielināšanos. Visbiežāk sastopama kalnos.	
8	Gandrīz melns, vulkānisks iezis, kurā reizēm tiek atrasti dimanti. Nosaukuma izcelsme meklējama DĀR.	
9	Ierīce saules starojuma pārveidošanai siltuma enerģijā.	
10	Konservatīva reliģiskā uztvere, valdot uzskatam, ka viss svētajos rakstos rakstītais ir patiesība.	
11	Nogulumiezis, kurš veidojies senajās dēdējumgarozās tropu un subtropu joslās.	
12	Pārvadājumi, ko veic pārvadātājs starp diviem vai vairākiem vienas valsts teritorijas punktiem.	
13	Process, kas vērsts uz kādas sociālās grupas tiesību paplašināšanu un nevienlīdzības novēršanu.	
14	Smilšu uzkrāšanās krasta zonā, novērojama gan jūru un okeānu krastos, gan upēs sanešu veidā.	
15	Teritorijā izveidojies augu kopums, kam raksturīgs noteikts sastāvs, uzbūve, augu savstarpējās attiecības un attiecības ar vidi.	
16	Ticība, ka lietām apkārtējā vidē un dabas parādībām piemīt gars un apzinīga dzīve, pat spēja domāt.	
17	Valsts iedzīvotāju skaita absolūta samazināšanās.	
18	Valsts pārvaldes forma, kurā par vienīgo augstākās varas nesēju postulēts Dievs, bet viņa vārdā valda tā garīdzniecība, pamatojoties uz reliģijas normām un dogmām.	
19	Vieta transporta mezglos, kas atvēlēta kravas komplektēšanai vai pasažieru sapulcēšanai.	
20	Visbiežāk izmantotā dzelzs rūda (72% dzelzs iegūst no šī minerāla).	

akumulācija, albedo, animisms, apvelings, bentāle, bioma, boksīts, depopulācija, dotēšana, eitrofikācija, emancipācija, emisija, fitocenoze, fosforīts, fundamentālisms, hematīts, humuss, integrācija, inversija, izmiršana, kobotāža, kartelis, kimberlīts, kolektors, liberalizācija, likviditāte, metamorfs, monoteisms, reeksports, rekreācija, sanācija, sublimācija, suburbanizācija, TAI, teokrātija, terminālis

2.uzd. Eiropas kārta. [dalībniekiem]

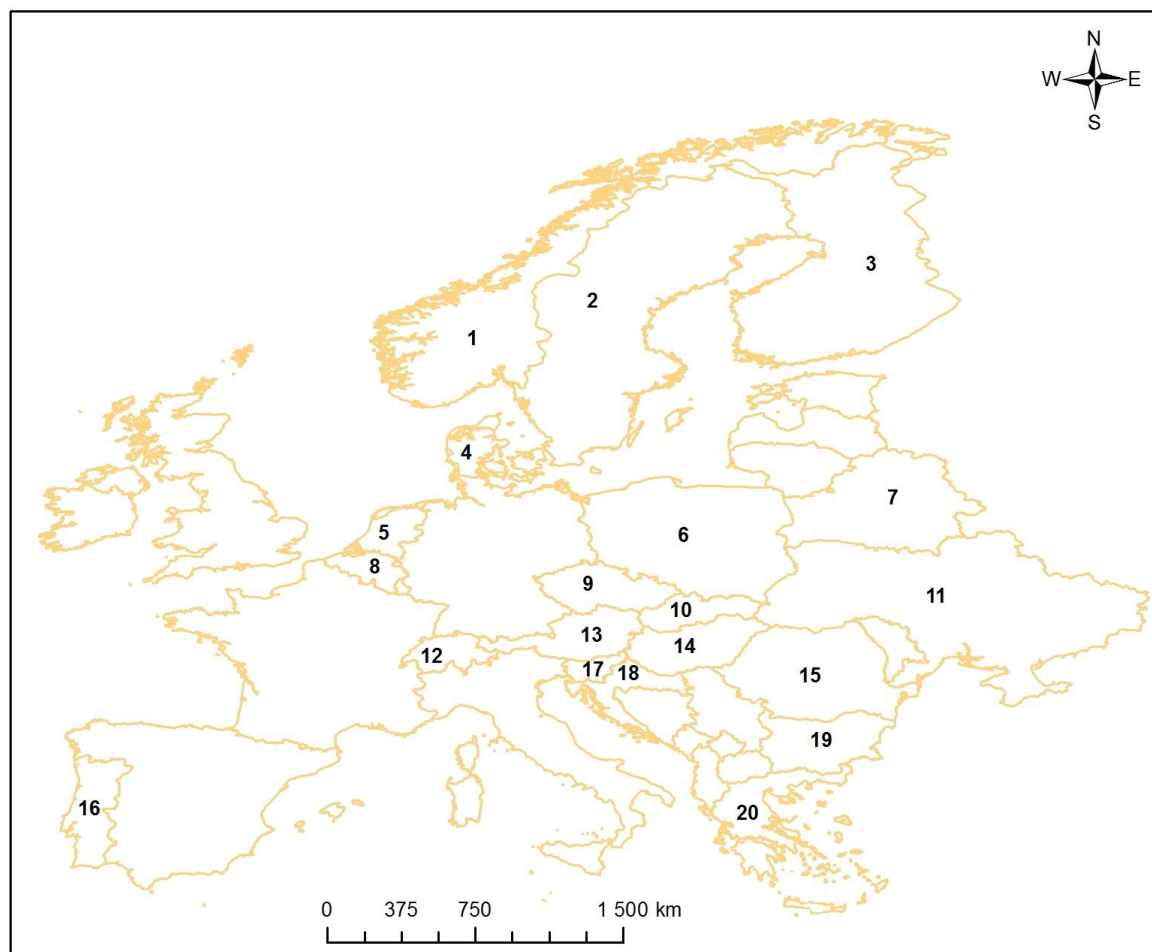
A=0.5p max = 40p

Aizpildies tabulas laukus, izmantojot dotos no darba lapām (DL1-2) faktus, ģērboņu un kartes un ieraksti galvaspilsētu

Valsts nosaukums	Karte	Ģerbonis	Galvaspilsēta	Fakts
Portugāle				
Čehija				
Somija				
Polija				
Slovēnija				
Slovākija				
Austrija				
Dānija				
Rumānija				
Bulgārija				
Šveice				
Beļģija				
Nīderlande				
Zviedrija				
Norvēģija				
Ukraina				
Grieķija				
Baltkrievija				
Horvātija				
Ungārija				

DL1 – Fakti un Karte

- F1 dzimis jūrasbraucējs Vasko da Gama
- F2 atrodas lielākā daļa no nac.parka "Belovežas gārša"
- F3 atrodas Insbrukas kamaniņu, skeletoņa un bobsleja trase
- F4 valstij cauri tek Visla
- F5 valsti veido 3 admn.reģioni Flandrija, Valonija un galvaspilsētas vārdā nosaukts reģions
- F6 valstij cauri tek Dņepra, kuras baseins aizņem pusi no valsts teritorijas
- F7 atrodas lielākā termālo ūdeņu alu sistēma pasaulē
- F8 lielākās salas ir Zēlande, Fīna, Lolanna un Bornholma
- F9 lielākais alus patēriņš pasaulē uz vienu iedzīvotāju
- F10 atrodas reģions Transilvānija
- F11 puse no valsts teritorijas atrodas zem jūras līmeņa
- F12 valstij pieder ap 6000 salas, no kurām ~250 ir apdzīvotas
- F13 vienu no valsts reģioniem sauc Dalmācija
- F14 valsti mēdz dēvēt par "Tūkstoš ezeru zemi"
- F15 valsts lielāko daļu aizņem Tātru kalni
- F16 valsts ziemeļu robežu veido Donavas upe
- F17 vienīgā valsts, kur zīmju valoda ir oficiāla valsts valoda.
- F18 valsti DR apskalo Adrijas jūra, bet Z atrodas Alpi
- F19 valstī ir četras oficiālās valodas: vācu, franču, itāļu un retoromāņu
- F20 99% elektrības valsts ražo hidroelektrostacijās



DL2 –Gërboņi



A



B



C



D



E



F



G



H



I



J



K



L



M



N



O



P



R



S



T



U

3.uzd. Reljefa formas [Dalībnieki]

Dotas dažādas reljefa formas Latvijas teritorijā, Jūsu uzdevums ir atzīmēt, kurā no 4 vēsturiskajiem novadiem katra no tām atrodas. Katrai ir tikai viena pareizā atbilde. Apvelciet jūsu prāt pareizo!

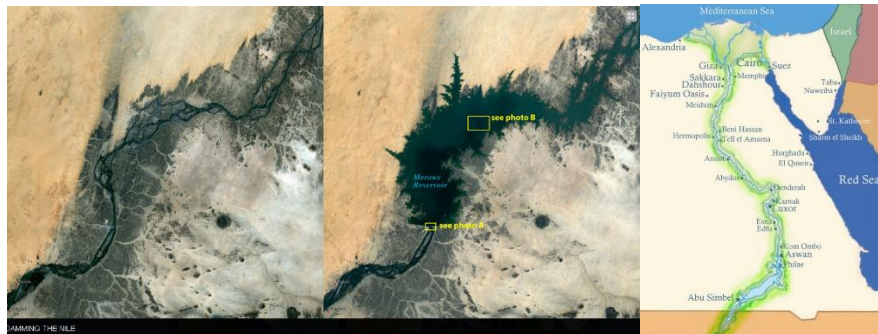
A=1p max =12 p

1. Embūtes pauguraine			
Kurzeme	Zemgale	Latgale	Vidzeme
2. Irves līdzenums			
Kurzeme	Zemgale	Latgale	Vidzeme
3. Feimaņu pauguraine			
Kurzeme	Zemgale	Latgale	Vidzeme
4. Burzavas pauguraine			
Kurzeme	Zemgale	Latgale	Vidzeme
5. Taurkalnes līdzenums			
Kurzeme	Zemgale	Latgale	Vidzeme
6. Upmales paugurlīdzenums			
Kurzeme	Zemgale	Latgale	Vidzeme
7. Aumeisteru paugurvalnis			
Kurzeme	Zemgale	Latgale	Vidzeme
8. Mežoles pauguraine			
Kurzeme	Zemgale	Latgale	Vidzeme
9. Apriķu līdzenums			
Kurzeme	Zemgale	Latgale	Vidzeme
10. Ērgemes pauguraine			
Kurzeme	Zemgale	Latgale	Vidzeme
11. Metsepoles līdzenums			
Kurzeme	Zemgale	Latgale	Vidzeme
12. Veclaicenes pauguraine			
Kurzeme	Zemgale	Latgale	Vidzeme

4.uzdevums [Dalībnieki]

4.1. Ūdens... (5p)

1. Kur ir lielākie saldūdens ledus krājumi, ārpus polārajiem reģioniem?
 - a) Kordiljeru kalni
 - b) Andu kalni
 - c) Tibetas plato (nereti mēdz dēvēt par trešo polu)
 - d) Jaunzēlandes Dienvidu sala
2. Pēc cik gadiem 1,8 miljardi iedzīvotāji cietīs no dzeramā ūdens trūkuma?
 - a) 15
 - b) 35
 - c) 50
 - d) 100
3. Gadiem ilgst strīdi par ūdens problēmām valstu robežupēs. Kurš no šiem ir lieks?
 - a) ASV un Meksika - Kolorādo upa,
 - b) Izraēla un Jordānija- Jordānas upes
 - c) Krievija un Ķīna - Amūra
 - d) Paragvaja un Brazīlija – Paragvajas upe
4. Būvējot Asuānas dambi, tika radīta būtiska problēma upes lejtecē. Kāda? (būtiskākā)
 - a) Tika izjaukti regulārie plūdi un sanešu daudzums
 - b) Palielinājās sausums lejtecē
 - c) Nīlas krokodīli netika pāri aizsprostam
 - d) Tika ierobežota kuģu satiksme



5. Attēlā redzama laiva Atspulgu kanjonā, kas atrodas Glēna Kanjona Nacionālā parkā (ASV Arizonas štatā). Ko parāda gaišās līnijas iežos virs ūdens līmeņa?

- a) Ūdens līmeni palu laikā
- b) Ūdens līmeni plūdu laikā
- c) Kādreizējo ūdens līmeni
- d) parka reindžeri nokrāsoja, lai krāsaināks brauciens tūristiem



4.2. Globālas klimata pārmaiņas (5p)

1. Kurš no šiem dotajiem faktiem raksturo globālo sasilšanu?
 - a) Sausums
 - b) Plūdi
 - c) kūstoši ledāji
 - d) Visi augstāk minētie
2. Kura no dotajām valstīm rada vislielāko siltumnīcas efektu izraisošo gāzu apjomu?
 - a) ASV
 - b) Indija
 - c) Japāna
 - d) Ķīna
3. Vai paaugstinoties videjai gaisa temperatūrai ietekmēs malārijas izplatību?
Jā
Nē
4. Kurā diennakts laikā avioreisi rada vismazāko kaitējumu videi?
 - a) Dienā
 - b) Naktī
 - c) Abos vienādi
5. Kura no dotajām nozarēm cietīs no globālām klimata pārmaiņām?
 - a) Apdrošināšana
 - b) Komerzcveja
 - c) Vīnkopība
 - d) Visas augstāk minētās

4.3. Koordinātas (3p)

1. Punkta koordinātas ir 20°16'21" D plat., 52°21'16" R gar. Kurā kontinentā atrodas šis punkts?
 - a) Ziemeļamerikā
 - b) Dienvidamerikā
 - c) Āfrikā
 - d) Eirāzijā
 - e) Austrālijā
 - f) Antarktīdā
 - g) tāds punkts uz zemes neeksistē
2. LU ĢZZF studentu pašpārvaldes priekšsēdētājs, supermaratonists Reinis pēc kārtīga skrējiena saprata, ka ir apmaldījies. Līdzī paņemtā GPS iekārta rādīja koordinātas - 112°55'00" Z.pl. 24°02'16" A gar.. Kur Reinis atradās?
 - a) Lapzemē
 - b) Antarktīdā
 - c) Austrumsibīrijā
 - d) iekārta ir bojāta – tādas koordinātas nav iespējamas
3. Latvijas galējos Z, A, R un D punktos novietotas īpašas akmens zīmes. Punktā, kura koordinātas ir 58° 05' 08,1" Z; 25° 11' 57,9" A atrodas Latvijas galējais..
 - Z punkts;
 - D punkts;
 - A punkts;
 - R punkts

4.4. Bildes, shēmas un attēli (17.5 p)

4.4.1. Savienojiet pilsētas ar atbilstošajām klimatogramām! (katrs =0.5p katrs max 2.5 p))

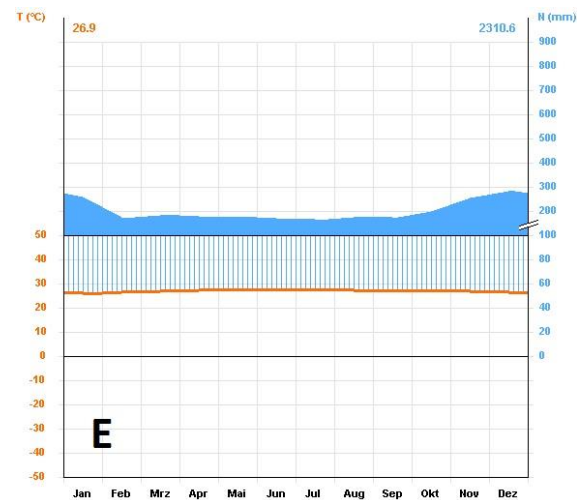
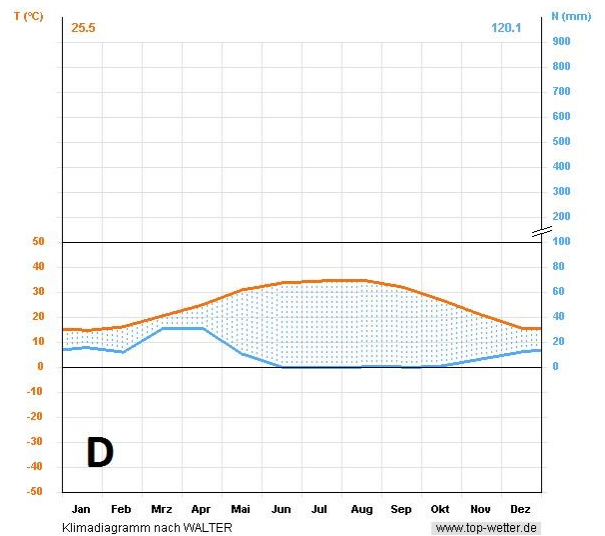
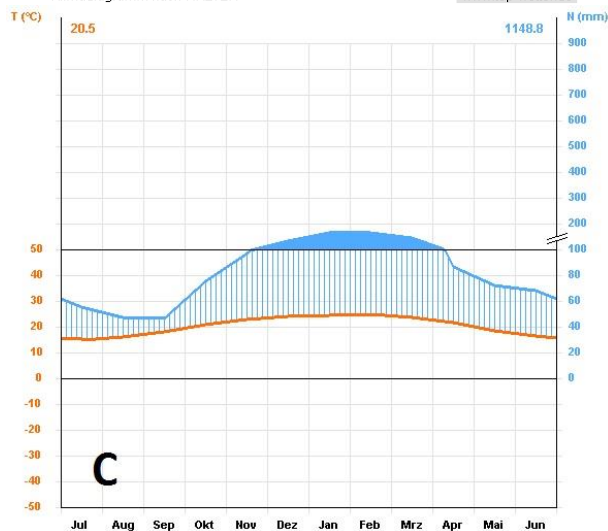
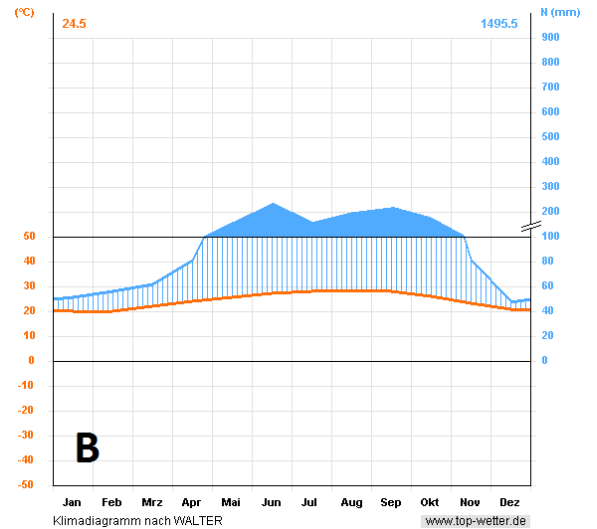
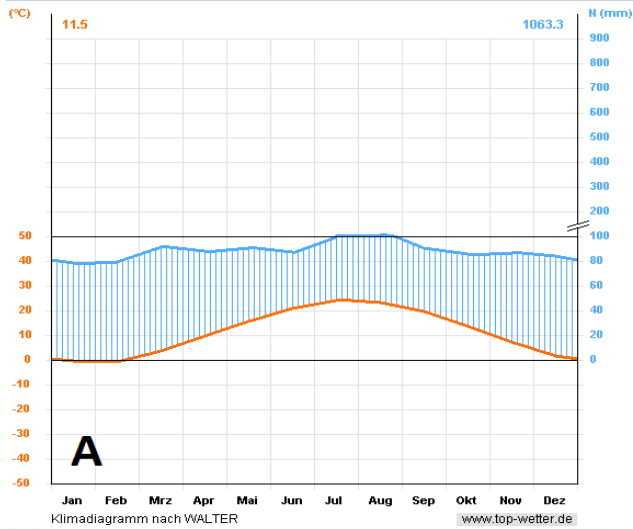
Brisbena –

Miami –

Ņujorka –

Rijāda –

Singapūra -



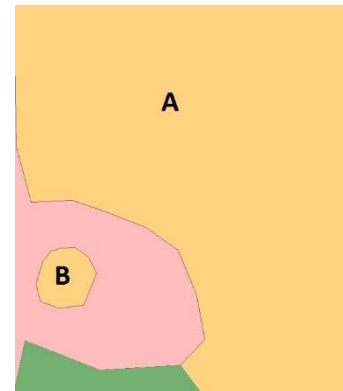
4.4.2. Kas šeit ceļojis (1831.-1836.g.)?



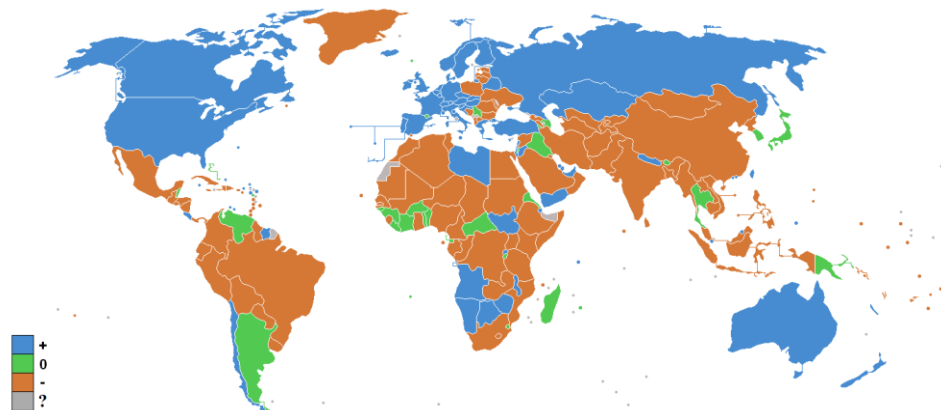
- a) Aleksandrs Humbolts
- b) Čarlzs Darvins
- c) Džeims Kuks
- d) Fernāns Magelāns

4.4.3. A un B teritorijas ir vienas valsts sastāvdaļa. B šai valstij ir:

- a) anklāvs;
- b) eksklāvs;
- c) autklāvs
- d) inklāvs
- e) Klāvs.



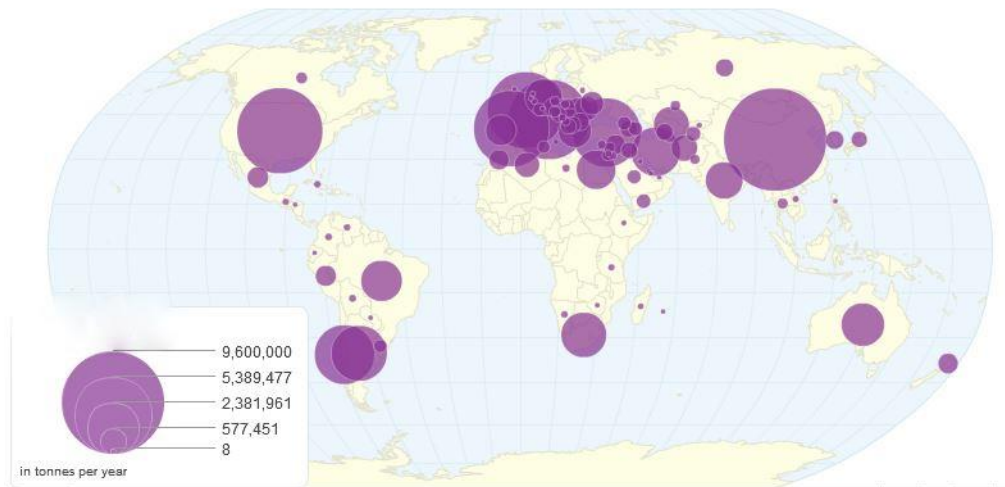
4.4.4. Kas šeit kartēts?



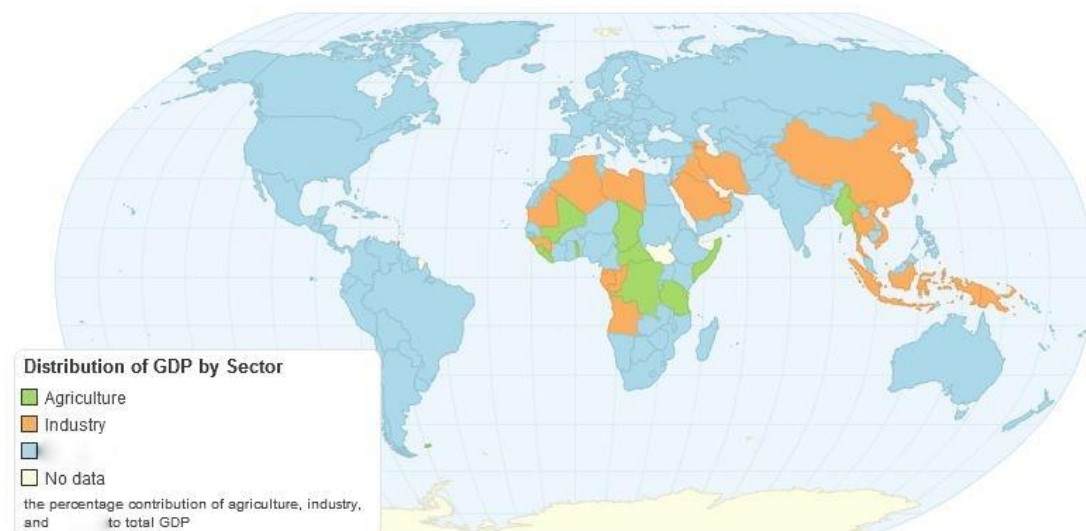
- a) Ārējās tirdzniecības saldo
- b) Dabiskais pieaugums
- c) Migrācijas saldo
- d) *Coca cola* lietojums ikdienā attiecībā pret *Pepsicola*

4.4.5 Kāda lauksaimniecības kultūra te kartēta?

ATB. _____

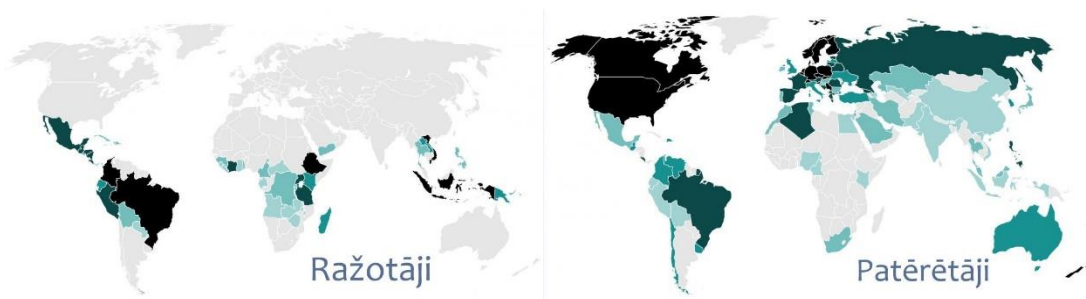


4.4.6. Attēlots IKP sadalījums pēc dominējošiem sektoriem. Kas šeit kartēts ar zilo krāsu?



ATB. _____

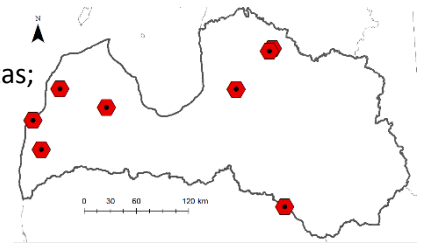
4.4.7. Kāds produkts šeit kartēts?



ATB. _____

4.4.8. Ko šajā kartē apzīmē sarkanie sešstūri?

- Pēdējo 8 ārpus Rīgas dzimušo Latvijas premjerministru dzimtās pilsētas;
- Mazpilsētas ar lielāko latviešu īpatsvaru starp iedzīvotājiem;
- 8 mazākās Latvijas pilsētas pēc iedzīvotāju skaita;
- 8 Latvijas mazāko novadu (pēc platības) centri.

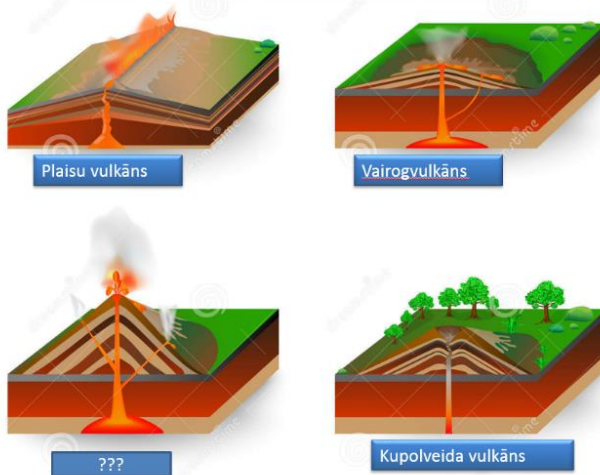


4.4.9. Kura no Pasaules tirdzniecības lielpilsētām piedzīvojuši tādas pārvērtības dažu gadu laikā (1991-2013g)?

ATB. _____

4.4.10. Kas ir trūkstošais vulkānu tips?


Vulkānu tipi pēc uzbūves



ATB. _____

4.4.11. Ka sauc šo vulkānisko iezī, kas negrimst ūdenī?

- Bazalts
- Pumeks
- Tufs
- Turmalīns
- Balerīns

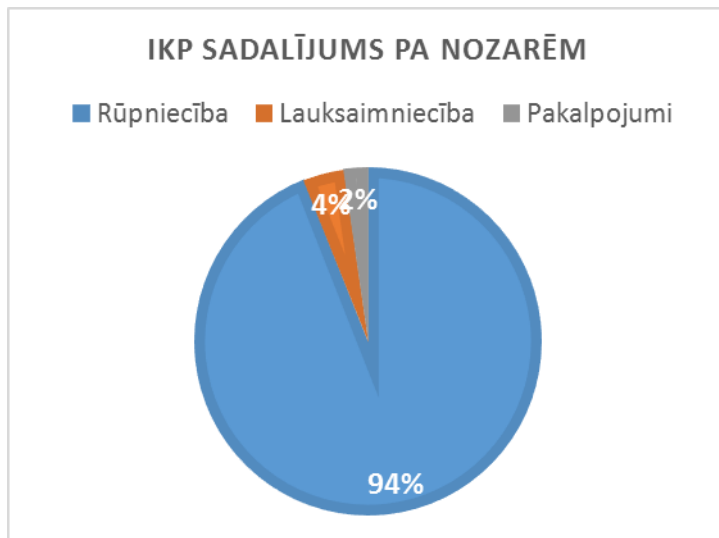


4.4.12. Ar kādu terminu apzīmē sugas, kas sastopamas visā pasaulē?

- kserofīti
- makrofīti
- kosmopolīti
- megafīti
- globofīti
- fīti-fīti



4.4.13. Pateicoties kādam resursam Ekvatoriālajai Gvinejai ir tik nevienmērīgs nozaru sadalījums IKP



ATB. _____

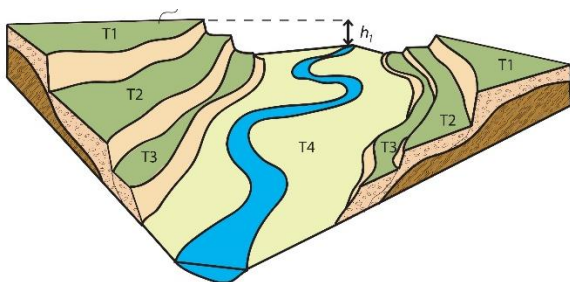
4.4.14. *Son Doong* ala, kas atrodas Vjetnamā ir viena no pasaules lielākajām alām pēc tilpuma. Kāda ģeoloģiska procesa rezultātā g.k. veidojušās lielākās alas pasaulē?



ATB. _____

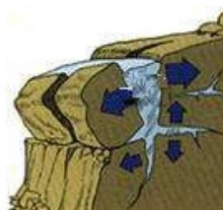
15. as atzīmēts ar burtiem T1 T2 T3?

ATB. _____



16. Kāds process te attēlots?

- a) Ķīmiskā dēdēšana
- b) Mehaniskā dēdēšana
- c) Sala dēdēšana
- d) Visas augstākminētie



5.uzd. Rīsu kārta [Dalībniekiem]

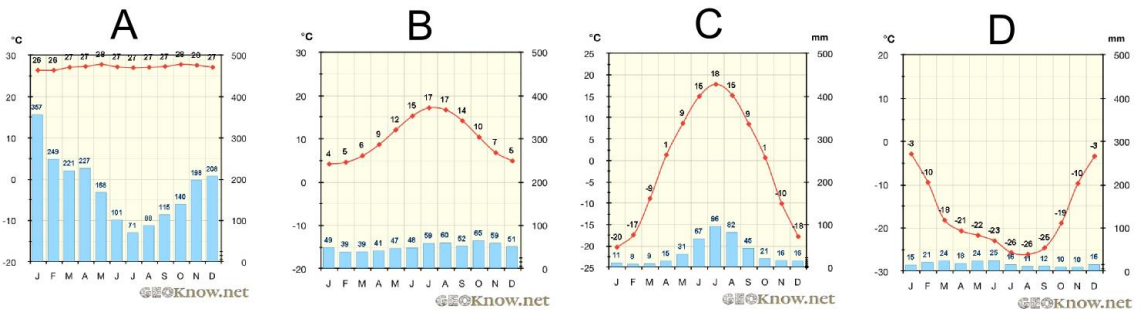
1. Kurā attēlā redzami rīsi?
 - a A
 - b B
 - c C
 - d D



2. Rīsus audzē pamatā šādās klimata joslās:
 - a) Ekvatoriālajā un subekvatoriālajā
 - b) Ekvatoriālajā, subekvatoriālajā un subtropu
 - c) Tropu un subtropu
 - d) Subekvatoriālajā un subtropu
3. Lielākā rīsu ražotājvalsts ir
 - a) Bangladeša
 - b) Indija
 - c) Indonēzija
 - d) Ķīna
4. Galvenais iemesls kāpēc rīsus visbiežāk audzē apūdeņotos laukos ir:
 - a) Lielo nokrišņu dēļ laukus nav iespējams nosusināt.
 - b) Ūdenī augošo rīsu šķirnes ir ražīgākas par sausos laukos augošajām.
 - c) Ja lauku appludina, ūdenī kopā ar rīsiem var audzēt arī zivis un pīles.
 - d) Ūdens traucē augt nezālēm.
5. Vai rīsus var audzēt pārmaiņus ar citām augu kultūrām (pielietot augsekas)?
 - a) Jā, ar daudziem citiem kultūraugiem.
 - b) Jā, bet tikai ar akvakultūrām.
 - c) Nē, jo ūdenī citi kultūraugi neaug.
 - d) Nē, jo rīss ir vienīgais nozīmīgais kultūraugs saviem klimatiskajiem apstākļiem.

6. Kurā no vietām ar dotajām klimata diagrammām iespējams audzēt rīsus?

- a) A
- b) B
- c) C
- d) D



7. Rīsu audzēšana ir nozīmīgs siltumnīcas efekta gāzu avots, jo

- a) Rīsa stādi līdz 6. nedēļai izdala vairāk oglekļa dioksīda kā uzņem.
- b) Zem ūdens bezskābekļa vidē sadaloties organiskajām vielām rodas metāns.
- c) Tiek plaši pielietoti pesticīdi, kuri saules gaismā sadaloties rada dislāpekļa oksīdu.
- d) Ūdens un dubļu slodze laukos strādājošajiem cilvēkiem un lopiem liek izdalīt vairāk CO₂

8. Izmanto dotos datus un atbilde vai apgalvojums ir patiess, aplams vai trūkst datu pareizības noteikšanai. Pieņem, ka abās valstīs nebija izmaiņas rīsu uzkrājumos starp 2013. gada sākumu un beigām.

	Indija	Indonēzija	
Rīsu raža	159 200 000	71 279 712	t
Rīsu eksports	11 300 105	1 269	t
Rīsu imports	1 323	472 239	t
Novāktā platība	43 950 000	13 835 252	ha
Iedzīvotāju skaits	1 279 498 870	251 268 280	
2013. gads. ANO Pārtikas un lauksaimniecības organizācijas dati			

	Patiess	Aplams	Trūkst datu
8.1 Indija spēj saražot sev nepieciešamo rīsu apjomu			
8.2 Indonēzija spēj saražot sev nepieciešamo rīsu apjomu			
8.3 Viss Indijas rīsu eksports nonāca Indonēzijā			
8.4 Viss Indonēzijas rīsu eksports nonāca Indijā			
8.5 Kopējais Indijas rīsu patēriņš ir 2.2 reizes lielāks kā Indonēzijas			
8.6 Indija var eksportēt vairāk rīsu par Indonēziju, jo ražība Indijā ir augstāka			
8.7 Indija var eksportēt vairāk rīsu par Indonēziju, jo katrs Indijas iedzīvotājs patērē mazāk rīsu kā Indonēzijas iedzīvotājs			
8.8 Ja Indonēzijā no katra rīsu hektāra ievāktu tikpat cik Indijā, valsts pārtikas apgādes problēmas būtu atrisinātas			

9. Iepazīsties ar rakstu un atbildi uz atbildi uz jautājumiem

Gaidot pieprasījumu Indonēzijā, Āzijā pieaug rīsu cena

Ho Binh Minh/Reuters 17.02.2016, Hanoja, <http://www.agweek.com/news/nation-and-world/3949891-asia-rice-prices-edge-indonesian-demand-ey>

- N**eskatoties uz to, ka piedāvājumu palielināja Taizemes valdības rīsu krājumu pārdošana, ražas novākšana Taizemē un gaidāmā ražas novākšana Vjetnamā, Āzijā rīsu cena šonedēļ nedaudz pieauga, kā apgalvo tirgotāji, iespējamā
- 10 Indonēzijas pieprasījuma pieauguma dēļ. Vjetnamas tirgotāji trešdien stāsta, ka rīsu cena Vjetnamā palielinājās pēc garajām jaunā gada brīvdienām, kad tirgotāji sekoja sarunām par rīsu pārdošanu Indonēzijai.
- 15 Pirkšanas piedāvājumi Saigonas ostā par iekraušanai gataviem rīsiem ar 5 procentu škelto rīsu piemaisījumu dažādojās no \$350-\$355 par tonnu iepriekšējā nedēļā līdz \$350-\$360 par tonnu šonedēļ. Tajā pašā laikā, cenas
- 20 rīsiem ar 25 procentu škelto rīsu piemaisījumu nemainās jau no gada sākuma un ir \$330-\$335 par tonnu.
- “*Vinafood 2* ir pasūtījusi 15 procentu škelto rīsus no saviem uzņēmumiem, lai tai būtu
- 25 pārrunām nepieciešamie krājumi,” stāsta kāds Hošiminas tirgonis. *Vinafood 2* ir Vjetnamas lielākais rīsu eksportētājs. Rīsi ar 15 procentu škelto rīsu piemaisījumu ir tieši Indonēzijas bieži meklētā rīsu klase.
- 30 Pagājušajā gadā Indonēzija iepirka 1.5 miljonus tonnu rīsu no Taizemes un Vjetnamas, kuras pasaules rīsa eksportā ieņem otro un trešo vietu, kamēr vislielākā eksportētāja ir Indija.
- 35 Tirgotāji stāsta, ka vairums Vjetnamas eksportētāju ir negribīgi dot savus piedāvājumus un gaida graudu cenas ziemas-
- pavasara ražas novākšanas maksimumā, kas sagaidāms vēlāk šomēnes.
- 40 Taizemē valdības rīsu krājuma pārdošana un ražas novākšana neļaus palielināt cenas, apgalvo tirgotāji.
- Tomēr, par spīti tam, ka iepriekš Taizemes valdība izsolēs pārdeva 152377 tonnas graudu
- 45 15 privātām kompānijām, Bangkokas biržā cena Taizemes rīsiem ar 5 procentu škelto rīsu piemaisījumu <RI-THBKN5-P1> ir nedaudz palielinājusies līdz \$370-\$375 par tonnu, salīdzinot ar \$365-\$375 pirms divām nedēļām.
- 50 “Es nedomāju, ka tam ir kāda ietekme. Izsolēs pārdotie rīsi nav tādi, kādus vēlas galvenie ārzemju iepircēji,” apgalvo kāds tirgotājs no vienas no 15 kompānijām, piebilstot, ka daļa no rīsiem tomēr tiks eksportēti. Taizemē
- 55 pašlaik ir sākusies starpsezonu ražas novākšana un tirgotāji saka, ka papildus piedāvājums nepalielinās cenas vismaz vēl uz mēnesi. “Es neredzu, ka cenas martā varētu virzīties augšup,” stāsta cits tirgotājs.
- 60 Oficiālajos skaitļos piedāvājums no Vjetnamas un Taizemes līdz šim šogad ir palielinājies. Saskaņā ar šomēnes publiskotajiem ASV lauksaimniecības departamenta datiem, Taizeme, laikā starp 1. janvāri un 7. februāri, ir
- 65 eksportējusi 400000 tonnas, kas ir par 36 procentiem vairāk kā gadu iepriekš. Vjetnamas lauksaimniecības ministrija apgalvo, ja janvārī Vjetnama uz ārzemēm nosūtīja 495000 tonnas, kas ir par 56.7 procentiem vairāk kā gadu
- 70 iepriekš.

9.1 Cik rīsu ražas gadā novāc Vjetnamā?

- a) tikai 1
- b) līdz 2 vai 3

9.2 Lielāks škelto rīsu saturs starp rīsiem norāda uz

- a) augstāku kvalitāti
- b) zemāku kvalitāti

9.3 Kas ir <RI-THBKN5-P1> 47 rindā?

- a) preces kods Bangkokas biržā
- b) piemaisījuma vielas nosaukums
- c) ANO pārtikas un lauksaimniecības organizācijas statistikas klasifikators

9.4 Kurā rindā pieminēts Hošiminas vēsturiskais nosaukums?

9.5 Cik tūkstošus tonnu rīsu 2015. gada janvārī eksportēja Vjetnama? Atbildi noapaļo līdz veseliem skaitļiem.

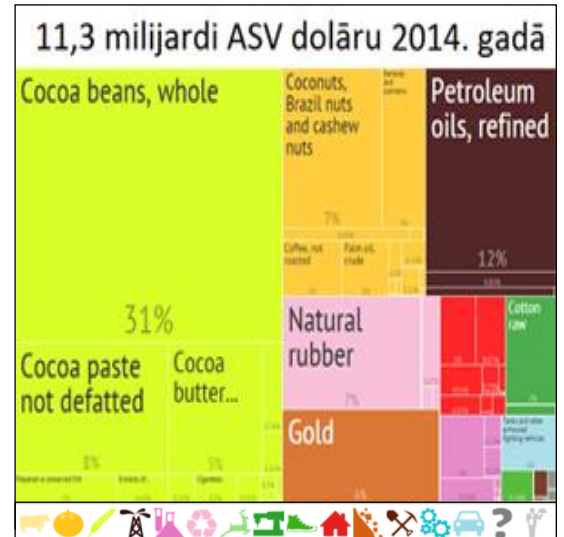
9.6 Rīgas lielveikalā 400g paku rīsu var iegādāties par €0.81. Pieņemot, ka izejvielas iepirkta par lielāko cenu, kas norādīta 48. rindā, cik procentu no lielveikalā nopērkamās rīsu pakas cenas sastāda rīsu izmaksas? 1 EUR = 1.11 USD. Atbildi noapaļo līdz veseliem procentiem.

9.7 Šis valsts bijusī premjerministre Yingluck Shinawatra no 2011. līdz 2014. gadam, gribot palīdzēt nabadzīgajiem zemniekiem, organizēja atbalsta mehānismu un iepirka no tiem rīsus par cenām virs tirgus vērtības. Iepirktos rīsus par paaugstinātu cenu neizdevās eksportēt un valsts iekļuva lielos parādos. Kurā rindā pirmoreiz pieminēta šī valsts?

6.uzd. Apgalvojumi [Dalībnieki]

Ekonomika un finanses

- 1) Botsvānas ekonomika ir spēcīgi atkarīga no tās dimantu ieguves industrijas.
JĀ / NĒ
- 2) **A. attēla grafiks** attēlots 2014. gada neto eksports...
Venecuēlai / Kotdivuārai
- 3) Gan mežistrāde, gan celulozes ražošana pieder pie primārā ekonomikas sektora.
JĀ / NĒ
- 4) Pēc kopējo aktīvu lieluma Top 3 pasaules lielākās bankas atrodas Ķīnā.
JĀ / NĒ
- 5) Latvijas IKP uz vienu iedzīvotāju 2014. gadā bija 97 662 ASV dolāru.
JĀ / NĒ
- 6) Līdz ar Lietuvas iestāšanos, Eirozonā tagad ir 19 valstis.
JĀ / NĒ



A. attēls

Enerģētika

- 1) Pēc kopējā elektroenerģijas nodrošinājuma, Dānija ir vadošā valsts vēja enerģijas izmantošanā.
JĀ / NĒ
- 2) 2010. gadā Lietuva kļuva par 1. valsti pasaulē, kura pilnībā atteicās no kodolenerģijas.
JĀ / NĒ
- 3) Lielākais pasaules HES pēc kopējās jaudas ir...
Itaipu dambis / Triju aizu dambis
- 4) Rudeņos enerģijas imports Latvijā stipri samazinās.
JĀ / NĒ
- 5) Ar Kanādas naftas smiltīm (**B. attēlā**) saistīts cauruļvads ir...
Nabucco / Keystone
- 6) Cukurniedru audzēšana ir nozīmīga nozare Brazīlijas enerģētikai un transport industrijai.
JĀ / NĒ



B. attēls

Pārtika un lauksaimniecība

- 1) Indijas lauksaimniecība dominē liela izmēra plantācijas un fermas.
JĀ / NĒ
- 2) Pēc eiropiešu ierašanās Ziemeļamerikā Amerikas bizons tika daļēji domesticēts.
JĀ / NĒ
- 3) **C. attēlā** redzamā lopkopība ir...
Ekstensīva / Intensīva
- 4) Indonēzijā vēl joprojām sastopama līdumu zemkopība.
JĀ / NĒ
- 5) Kafijas “dzimtene” ir...
Etiopija / Brazīlija
- 6) **D. attēlā** redzamais kultūraugs ir..
Ēdamās lēcas / Prosa



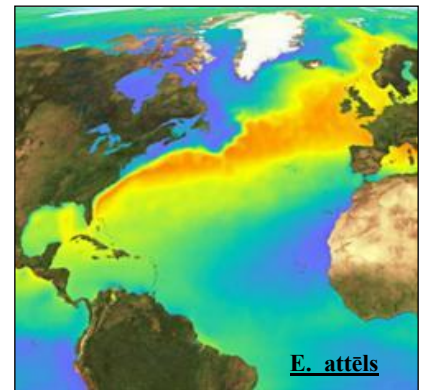
C. attēls



D. attēls

Klimats un laikapstākļi

- 1) Gaisa masu rotācijas virzienu atmosfērā ietekmē Koriolisa spēks.
JĀ / NĒ
- 2) Klimatam nozīmīgus mērījumus parasti veic un analizē vismaz 20 gadu periodos.
JĀ / NĒ
- 3) Sezonu maiņa ir mazāk izteikta virzoties uz kontinenta...
Iekšieni / Ārpusi
- 4) **E. attēlā** redzama siltā Humbolta straume.
JĀ / NĒ
- 5) Kopumā lielāks albedo piemīt...
Tuksnešiem / Mežiem
- 6) Skaidru laiku un temperatūras pazemināšanos ziemā nosaka...
Zema spiediena apgabals / Augsta spiediena apgabals



E. attēls

Toponīmi un Heraldika

- 1) Senie romieši par Kaledoniju sauca...
Norvēģiju / Skotiju
- 2) **F. attēlā** redzams Itālijas ģerbonis.
JĀ / NĒ
- 3) Latvijas pilsētu Madonas, Limbažu un Ainažu nosaukumiem ir somugru izcelsme.

JĀ / NĒ
- 4) **G. attēlā** redzamais karogs ir...
Nigēras / Pakistānas
- 5) Surinamas galvaspilsēta ir...
Tegusigalpa / Paramaribo
- 6) Denali ir Ziemeļamerikas augstākā virsotne virs jūras līmeņa.
JĀ / NĒ



Konflikti un politika

- 1) Pilsoņu karš Jemenā notiek starp vietējām nuēru un dinku ciltīm.
JĀ / NĒ
- 2) Eiropā sarežģītākās eksklāvu un anklāvu robežas ir starp Nīderlandi un Beļģiju.
JĀ / NĒ
- 3) Eiropa ir vienīgā pasaules daļa, kur sastopama teokrātiska valsts pārvaldes sistēma.
JĀ/ NĒ
- 4) Nākošā valsts, kas visdrīzāk iestāsies NATO būs...
Melnkalne / Islande
- 5) Laosa, Vjetnama un Kambodža agrāk bija Francijas kolonijas.
JĀ / NĒ
- 6) **H. attēlā** redzami kadri un karogs saistīts ar teroristisku organizāciju...
al-Queda / Hamas



Dabas katastrofas

- 1) Bīstamāki vulkāni ir...
Plaisu tipa / Stratovulkāni
- 2) Pēc ilgstoša sausuma, dabā iespējams noverot īstus liesmu virpuļus.
JĀ / NĒ
- 3) Visvairāk upju pārplūšanas riskam pakļauto iedzīvotāju dzīvo
Dienvidamerikā.
JĀ / NĒ
- 4) **I. attēlā** redzamās barjeras paredzētas lai aizturētu...
Akmeņu nogrūzumus / Sniega lavīnas
- 5) Orkāni, kas skar Latviju, visbiežāk veidojas ziemas un pavasara periodā.
JĀ / NĒ
- 6) 2015. gada aprīļa Nepālas zemestrīces spēks sasniedza 8,6 balles pēc Mosa skalas.
JĀ / NĒ



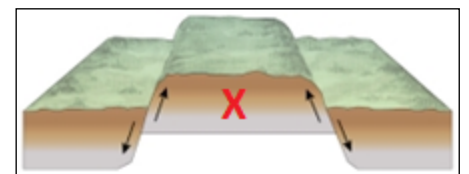
I. attēls

Reljefs un iežu izmantošana

- 1) Dolomītu un kaļķakmeni izmanto kā kusni metalurģijā.
JĀ / NĒ
- 2) **J. attēlā** redzamais materiāls gatavots no...
Rupjas grants / Māla
- 3) Hānijas augstienes absolūtais augstums virs jūras līmeņa ir augstāka nekā Alūksnes augstienei.
JĀ / NĒ
- 4) Kaolinīts ir svarīgs māla minerāls.
JĀ / NĒ
- 5) **K. attēlā** redzamo reljefa forma X sauc par...
Horstu / Grābenu
- 6) Osi ir apaļi 10-30 metru augsti pauguri, kas veidojušies ledāja caurkumos (piemēra Ogres Kangari).
JĀ / NĒ



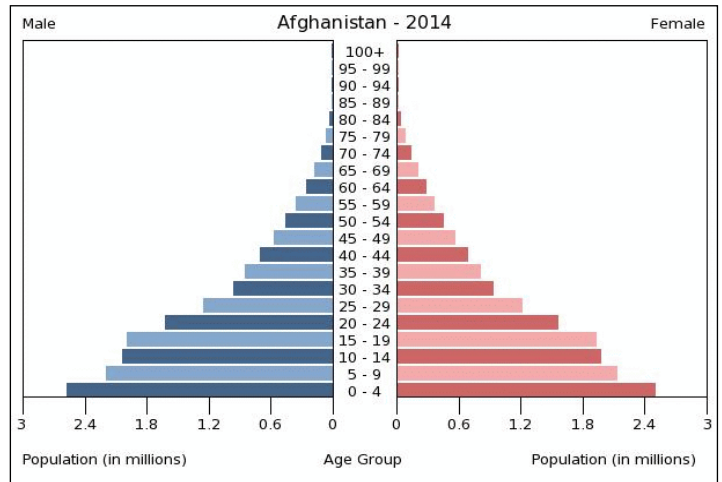
J. attēls



K. attēls

Iedzīvotāji un demogrāfija

- 1) Latvija un Lietuva ir vienīgās Eiropas Savienības valstis ar negatīvu iedzīvotāju skaita pieaugumu.
JĀ / NĒ
- 2) 2011. gadā pasaulē laucinieku skaits atkal pārspēja pilsētnieku skaitu.
JĀ / NĒ
- 3) Kurā no šīm pasaules valstīm fertīlais dzimstības koeficients ir 7,3?
Nīderlandē / Mali
- 4) Maskavā dzīvojošie imigranti nāk galvenokārt no Centrālāzijas valstīm?
JĀ / NĒ
- 5) **L. attēlā** redzamā Afganistānas dzimumvecumstruktūra visdrīzāk atbilst demogrāfijas...
1. fāzei / 3. fāzei
- 6) Interneta vietnē *Facebook* ir vairāk reģistrēto lietotāju, nekā iedzīvotāju ASV.
JĀ / NĒ



Kultūra un nacionālās identitātes

- 1) Kādas tautas nacionālais eposs ir *Bruņinieks tīģera ādā*?
Gruzīnu / Vācu
- 2) Kurā valstī kāzu mielastā varētu atrast palmu vīnu, maniokas putru, dārzenu zupu un ceptu jamsu un kazu?
Nigērijā / Čīlē
- 3) **M. attēlā** redzama hinduistu svētnīca.
JĀ / NĒ
- 4) *The Queen, The Beatles* un *The Rolling Stones* ir Amerikā dibinātas mūzikas grupas.
JĀ / NĒ
- 5) Lietuvā tiek svinēti Baltijas valstīs lielākie dziesmu svētki par godu dziesmu dievam Vanemuinem.
JĀ / NĒ
- 6) **N. attēls** uzņemts...
Titikakas ezerā / Hūrona ezerā

